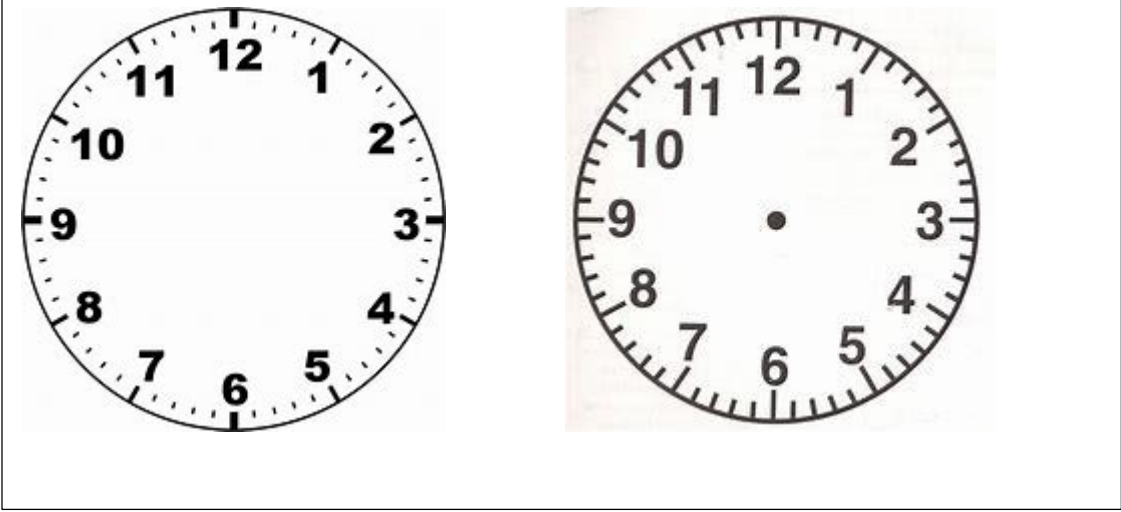


செயலட்டை (காலம்)

கணிதம்

தரம் 3

கடிகார முகம்



பெரியமுள்

(நிமிடம்)

சிறியமுள்

(மணித்தியாலம்)

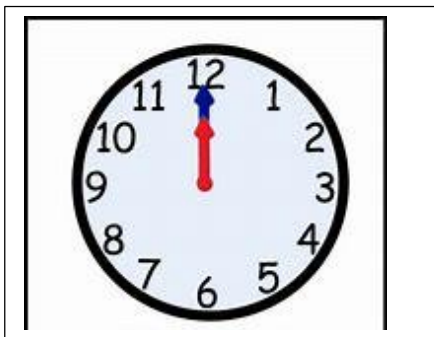

பெரியமுள் நிமிடத்தைக் குறிக்கும். விரைவாகச் சுழலும்.

சிறியமுள் மணித்தியாலத்தைக் குறிக்கும். மெதுவாகச் சுழலும்.

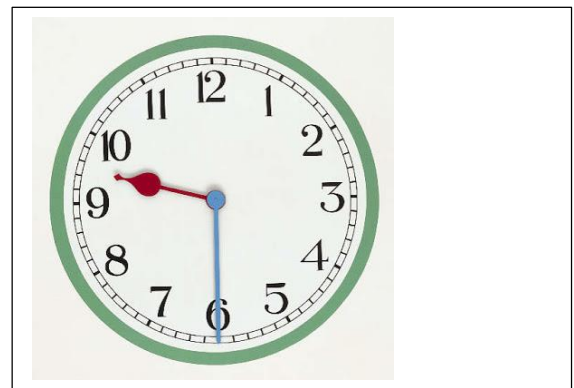
நேரங்களை வாசிப்போம்.



நேரங்களை எழுதுவோம்.



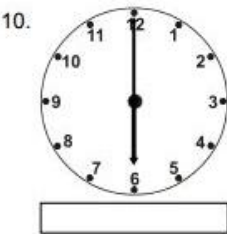










.....




.....


நேரங்களை எழுதுவோம்.




சரியான நேரங்களைக் குறிப்போம்.




6:00




2:00




7:00




1:00




8:00




10:00




3:00




5:00



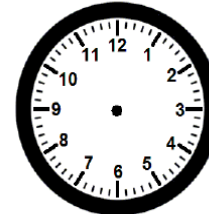
4:00



11:00

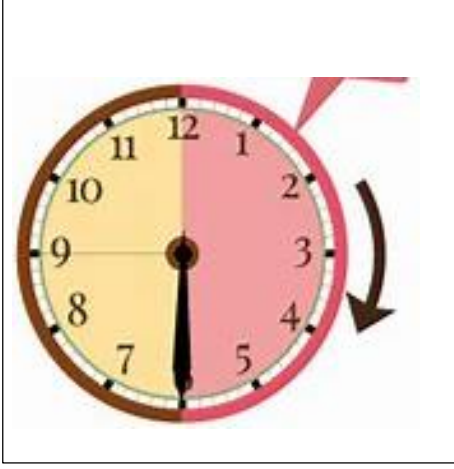


12:00



9:00

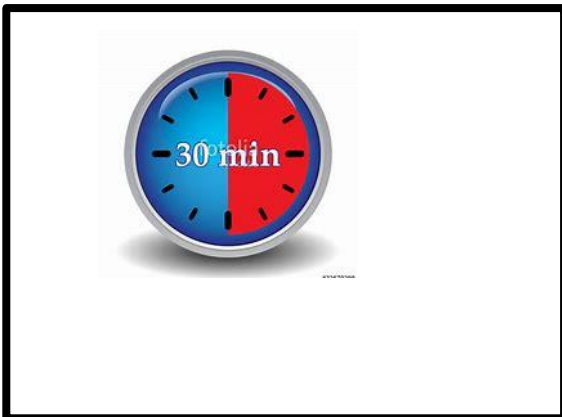
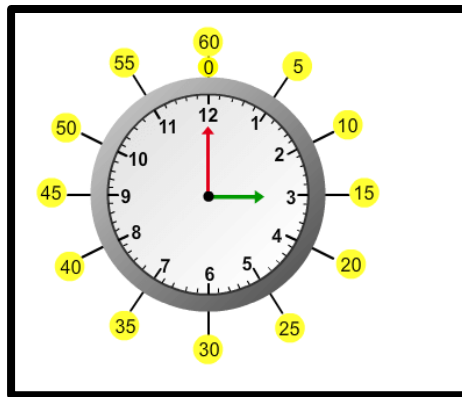

கடிகாரமுள் சுழலும் திசை.



15 நிமிடம் (பெரிய முள் 3 இல் இருக்கும் போது கால் மணித்தியாலம்)

30 நிமிடம் (பெரிய முள் 6 இல் இருக்கும் போது அரை மணித்தியாலம்)

45 நிமிடம் (பெரிய முள் 9 இல் இருக்கும் போது முக்கால் மணித்தியாலம்)



The minute hand is long. The hour hand is short.

minute →

→

→

002688

விடை தருக.

1. கடிகார முகமொன்றில் உள்ள எண்குறிகள் எத்தனை?

.....

2. கடிகார முகமொன்றில் உள்ள பிரதான முட்கள் எத்தனை?

.....

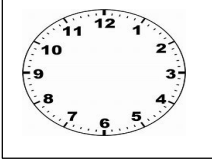
3. ஒரு மணித்தியாலத்திலுள்ள நிமிடங்கள் எத்தனை ?

.....

4. கடிகார முகமொன்றில் உள்ள நிமிடமுள் முழுச்சுற்று
ஒன்றாகச் செல்வதற்கு எடுக்கும் காலம் எவ்வளவு?

.....

5.



2 மணி 15 நிமிடங்களை அருகிலுள்ள
கடிகாரமுகத்தில் குறித்துக் காட்டுக.

6. கடிகார முகமொன்றில் உள்ள 12 இற்கு நேரே கீழே உள்ள எண்
எது?

.....

7. கடிகார முகமொன்றில் உள்ள 3 இற்கு நேரே உள்ள எண்
எது?

.....

சரியான நேரங்களைக் குறிப்போம்.

