

யா/அராஸி இந்துக் கல்லூரி

புவியியல் பாட அடைவு மேம்பாட்டுச்
செயற்றிட்டம் - 2020

பயிற்சிக் கையேடு – 03

நா.செல்வச்சந்திரன்

தரம் 7

அலகு 3

இலங்கையின் நிலத்தோற்றம்

பகுதி I

01 இலங்கை அமைந்துள்ள சமுத்திரம் எது?

- 1 பசுபிக் சமுத்திரம் 2 இந்து சமுத்திரம் 3 அத்திலாந்திக் சமுத்திரம் 4 ஆட்டிக்

02 இலங்கையின் பரப்பளவு எவ்வளவு?

- 1 65610 ச.கி.மீ 2 65510 ச.கி.மீ 3 65710 ச.கி.மீ 4 65810 ச.கி.மீ

03 மலைநாட்டு நிலத்தோற்றத்தின் உயரமாக அமைவது

- 1 30 மீற்றர் வரை 2 30 – 300 மீற்றர் 3 30 – 3000 மீற்றர் 4 300 மீற்றருக்கு மேல்

04 மலைநாட்டு நிலத்தோற்றத்தின் பௌதிக அம்சம் என்பதனுள் அடங்காதது

- 1 மலைத்தொடர் 2 மேட்டுநிலம் 3 ஆறுகள் 4 எச்சக்குன்றுகள்

05 இலங்கையில் நீர்வளம் நாகரிகம் ஆரம்பித்த பிரதேசம் எது?

- 1 உலர் வலயம் 2 குறைவறள் வலயம் 3 ஈரவலயம் 4 இடை ஈர வலயம்

06 உலர் வலய நிலத்தோற்றத்தில் அடங்கும் பிரதேசம் அல்லாதது

- 1 வடக்கு 2 வடமத்திய 3 கிழக்கு 4 சப்பிரகமுவ

07 அரைகுறை வறள் வலயக் காலநிலை நிலவும் பிரதேசம் அல்லாதது

- 1 மன்னார் 2 புத்தளம் 3 வவுனியா 4 அம்பாந்தோட்டை

08 உலர் வலயத்தில் அமைந்துள்ள எச்சக்குன்றுகளினுள் அடங்காதது

- 1 நமனுகுல 2 சிகிரியா 3 தம்புள்ள 4 ரிட்டிகல

09 உலர் வலயத்தில் புராதன காலத்திலிருந்தே பாதுகாப்பு அரணாக அமைந்துள்ள குன்று எது?

- 1 நமனுகுல 2 சிகிரியா 3 தம்புள்ள 4 ரிட்டிகல

10 உலர் வலய நிலத்தோற்றத்தில் அடங்கியுள்ள சரணாலயங்களுள் அடங்காதது

- 1 யால 2 வில்பத்து 3 குமண 4 சுண்டிக்குளம்

11 உலர் வலயத்தில் அமைந்துள்ள தேசிய பூங்காக்களினுள் அடங்காதது

- 1 சோமாவதி 2 மாதுறுஓயா 3 வஸ்கமுவ 4 உடவளவை

12 சுதந்திர வர்த்தக வலயங்கள் அமைக்கப்பட்டுள்ள இடம் அல்லாதது

- 1 கட்டுநாயக்கா 2 பியகம 3 கொக்கல 4 பாணந்துறை

13 இலங்கையின் தலைநகரம் எது?

- 1 ஸ்ரீ ஜெயவர்த்தனபுரக்கோட்டை 2 கொழும்பு 3 திருகோணமலை 4 கண்டி

14 இலங்கையின் வர்த்தக நகரம் எது?

- 1 ஸ்ரீ ஜெயவர்த்தனபுரக்கோட்டை 2 கொழும்பு 3 திருகோணமலை 4 க

பகுதி I

01 இலங்கையில் காணப்படும் முக்கிய நிலத்தோற்றங்கள் எவை?

.....

.....

.....

.....

.....

02 மலைநாட்டு நிலத்தோற்றத்தின் முக்கியமான ளெதிக அம்சங்கள் எவை?

.....

.....

.....

03 இலங்கையில் அமைந்துள்ள மேட்டுநிலங்கள் எவை?

.....

.....

04 இலங்கையில் உள்ள முக்கியமான மலைத்தொடர்கள் எவை?

.....

.....

05 மத்தியமலைநாட்டில் அமைந்துள்ள கணவாய்கள் எவை?

.....

.....

06 மத்தியமலைநாட்டிலுள்ள நீர்வீழ்ச்சிகள் எவை?

.....

.....

07 மலைநாட்டு நிலத்தோற்றத்தில் இடம்பெறும் மானிடச் செயற்பாடுகள் எவை?

.....

.....

.....

.....

.....

08 சுற்றுலாத் தொழிலோடு இணைந்த தொழில் வாய்ப்புக்கள் எவை?

.....
.....

09 உலர் வலய நிலத்தோற்றத்தில் அடங்கும் பிரதேசங்கள் எவை?

.....

10 உலர் வலய நிலத்தோற்றத்தை ஒழுங்கமைக்கும் காரணிகள் எவை?

.....
.....

11 உலர் வலய நிலத்தோற்றத்தின் பௌதிக அம்சங்கள் எவை?

.....
.....
.....
.....
.....
.....
.....
.....

12 அரைகுறை வறள் வலயக் காலநிலை நிலம் பிரதேசங்கள் எவை?

.....

13 உலர் வலயத்தில் அமைந்துள்ள எச்சக்குன்றுகள் எவை?

.....

14 உலர் வலய நிலத்தோற்றத்தில் இடம்பெறும் மானிடச் செயற்பாடுகள் எவை?

.....
.....
.....
.....
.....
.....
.....
.....
.....

15 உலர் வலய நிலத்தோற்றத்தில் அடங்கியுள்ள சரணாலயங்கள் எவை?

.....

16 உலர் வலயத்தில் அமைந்துள்ள தேசிய பூங்காக்கள் எவை?

.....

17 உலர்வலயத்தில் அமைவு பெற்றுள்ள முக்கிய வழிபாட்டுத் தலங்கள் எவை?

.....

.....

18 உலர் வலயத்தில் அமைந்துள்ள நதிகள் எவை?

.....

.....

19 உலர் வலயத்தில் அமைந்துள்ள குளங்கள் எவை?

.....

.....

20 ஈர வலய நிலத்தோற்றத்தின் பௌதிக அம்சங்கள் எவை?

.....

.....

.....

21 ஈரவலய நிலத்தோற்ற அமைப்பில் மாற்றம் ஏற்படுவதற்கான காரணங்கள் எவை?

.....

.....

22 அடிக்கடி வெள்ளப்பெருக்கிற்கு உட்படும் நதிகள் எவை?

.....

23 ஈரவலய நிலத்தோற்றத்தில் இடம்பெறும் மானிடச் செயற்பாடுகள் எவை?

.....

.....

.....

.....

.....

.....

.....

.....

24 ஈரவலயத்தில் அமைந்துள்ள முக்கிய நகரங்கள் எவை?

.....

25 சுதந்திர வர்த்தக வலயங்கள் அமைந்துள்ள இடங்கள் எவை?

.....

26 கைத்தொழில் குடியேற்றங்கள் அமைந்துள்ள இடங்கள் எவை?

.....

27 ஈரவலய நிலத்தோற்றத்தில் பாதிப்பை ஏற்படுத்தும் காரணிகள் எவை?

.....

.....

.....

28 ஈரவலய நிலத்தோற்றத்தில் எதிர்நோக்கப்படும் பிரச்சினைகள் எவை?

.....

.....

.....

.....

29 இலங்கையின் வடமேற்குத் திசையில் அமைந்துள்ள தீவுகள் எவை?

.....

30 இப்பிரதேசத்தின் முக்கிய பௌதிக அம்சங்கள் எவை?

.....

.....

.....

.....

31 இப்பிரதேசத்தின் மானிடச் செயற்பாடுகள் எவை?

.....

.....

.....

.....

.....

நா.செல்வசுந்தரன்

32 இலங்கையின் கரையோர நிலத்தோற்றத்தில் உள்ளடங்கும் பௌதிக உறுப்புக்கள் எவை?

.....
.....

33 கரையோர நிலத்தோற்றத்தில் இடம்பெறும் மானிடச் செயற்பாடுகள் எவை?

.....
.....
.....
.....
.....
.....
.....
.....
.....
.....

34 கரையோர நிலத்தோற்றத்தில் அமைக்கப்பட்டுள்ள சுற்றுலாப் பணிகள் வருகையை ஊக்குவிக்கும் காரணிகள் எவை?

.....
.....
.....
.....
.....
.....

நா.செல்வச்சுந்திரன்

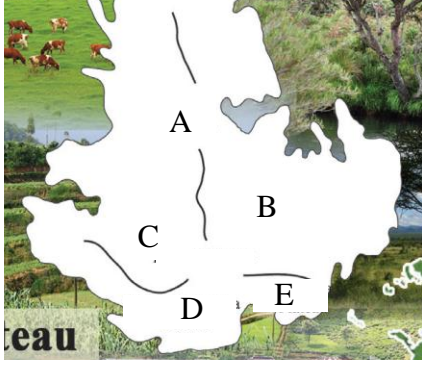
35 கரையோரத்தில் காணப்படும் வளங்களைப் பயன்படுத்தி மேற்கொள்ளப்படும் பல்வேறு கைத்தொழில்கள் எவை?

.....


36 கரையோர நிலத்தோற்றத்தில் பாதிப்பை ஏற்படுத்தும் மானிடச் செயற்பாடுகள் எவை?

.....
.....
.....
.....

37 படத்தில் ஆங்கில எழுத்துக்களால் காட்டப்பட்டுள்ள மேட்டுநிலங்களின் பெயர்களை எழுதுக.



38 படத்தில் ஆங்கில எழுத்துக்களால் காட்டப்பட்டுள்ள மலைத்தொடர்களின் பெயர்களை எழுதுக.

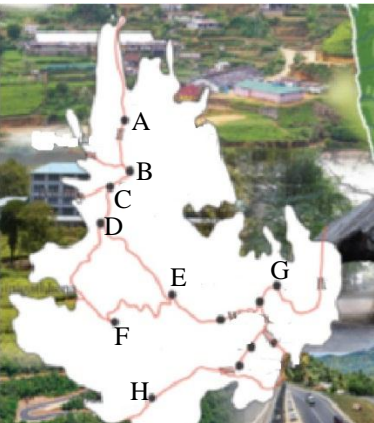


39 படத்தில் ஆங்கில எழுத்துக்களால் காட்டப்பட்டுள்ள கணவாய்களின் பெயர்களை எழுதுக.

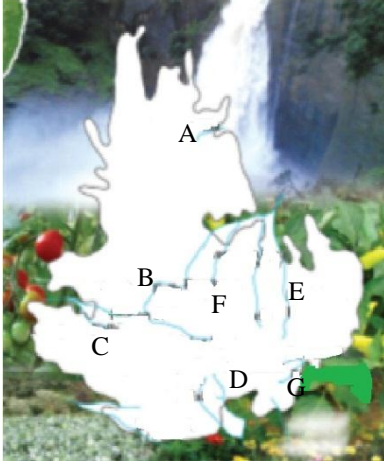


நா.செல்வசுந்தரன்

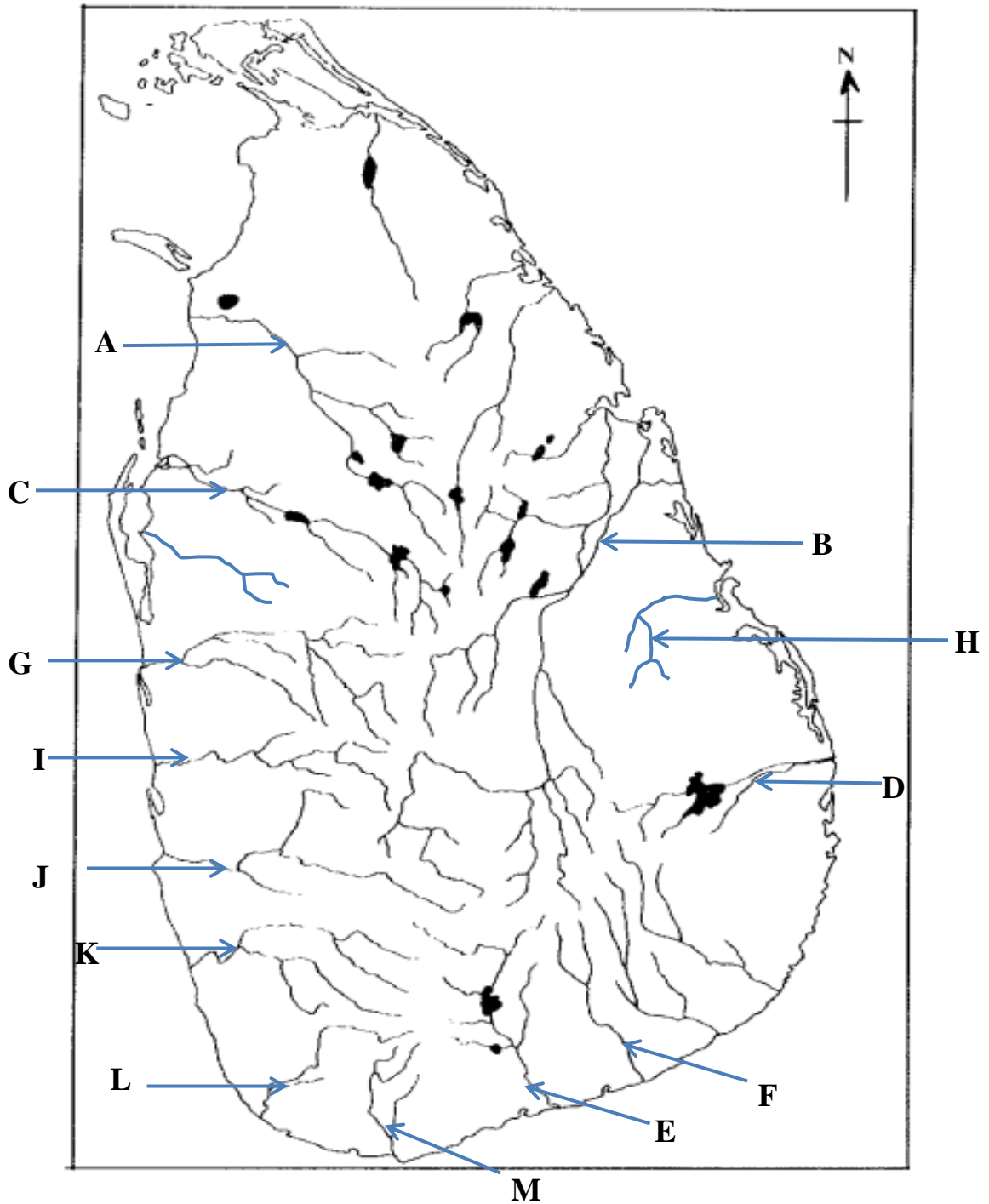
40 படத்தில் ஆங்கில எழுத்துக்களால் காட்டப்பட்டுள்ள நகரங்களின் பெயர்களை எழுதுக.



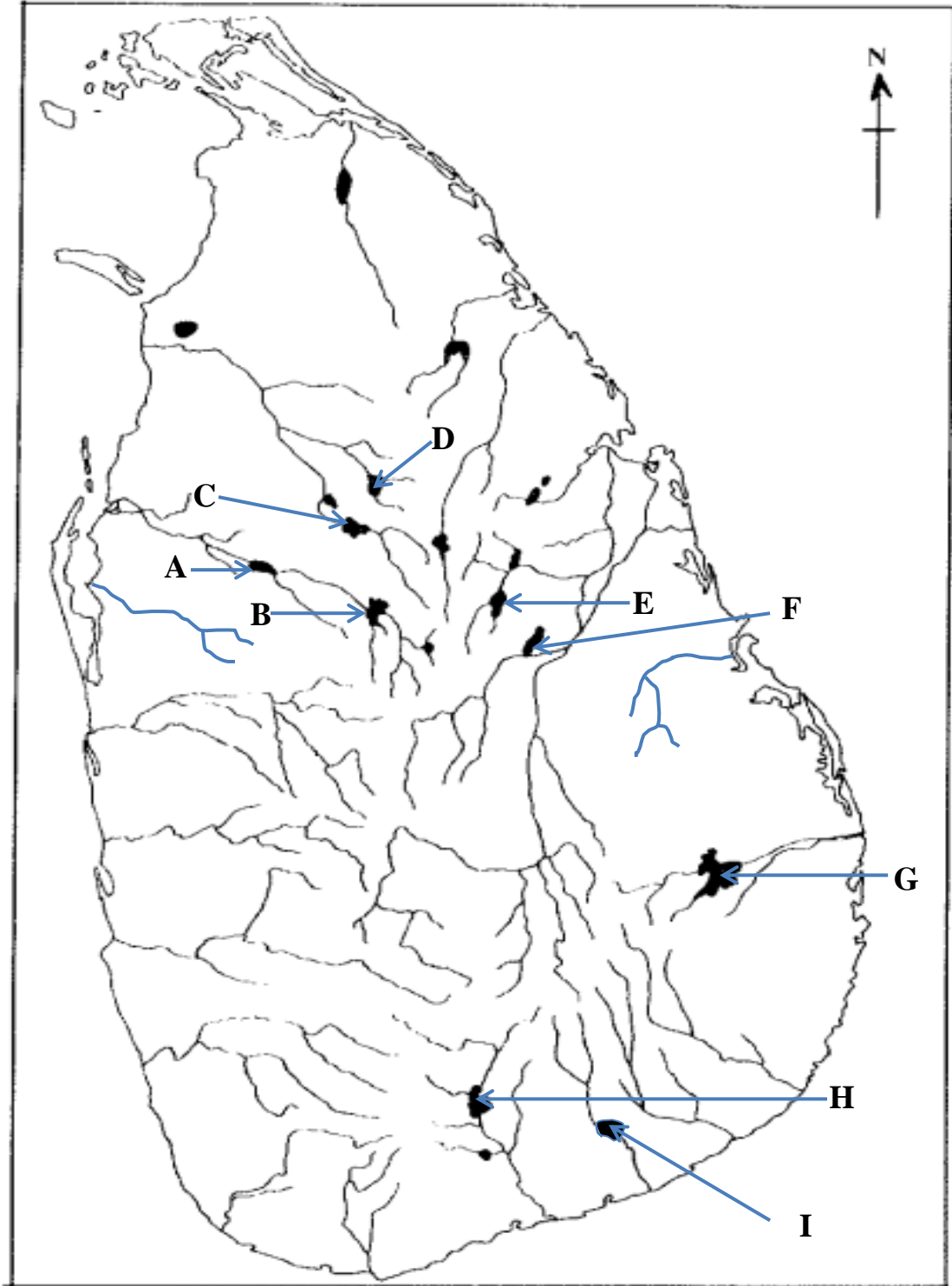
40 படத்தில் ஆங்கில எழுத்துக்களால் காட்டப்பட்டுள்ள நகரங்களின் பெயர்களை எழுதுக.



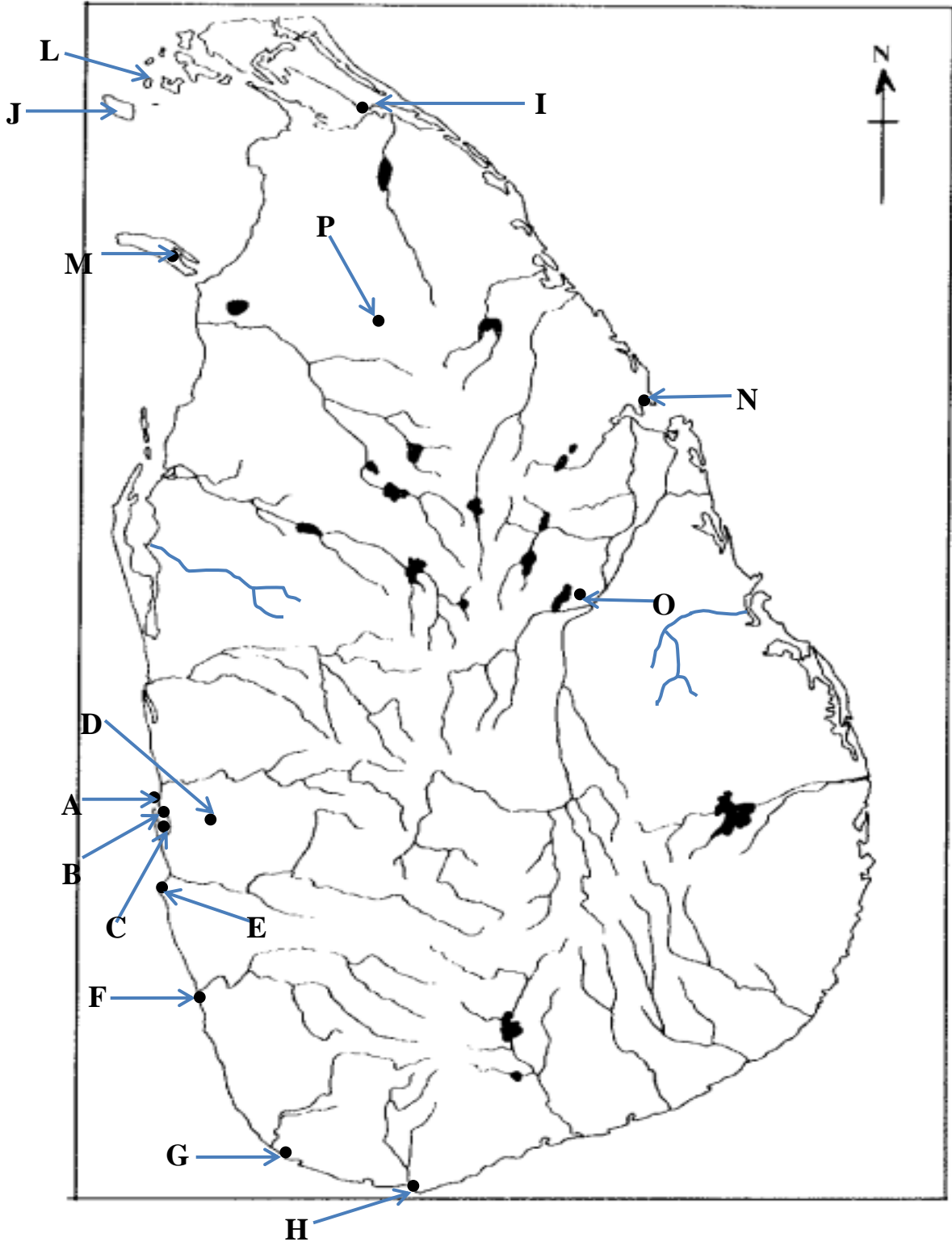
41 ஆங்கில எழுத்துக்களால் குறித்துக்காட்டப்படும் நதிகளின் பெயர்களை எழுதுக.



42 ஆங்கில எழுத்துக்களால் குறித்துக் காட்டப்படும் குளங்களின் பெயர்களை எழுதுக.



43 பின்வரும் ஆங்கில எழுத்துக்களால் குறித்துக் காட்டப்படும் இடங்களின் பெயர்களை எழுதுக.



44 ஆங்கில எழுத்துக்களால் காட்டப்படும் இடங்களின் பெயர்களை எழுதுக.

