

யா/அராலை இந்துக் கல்லூரி

புவியியல் பாட அடைவு மேம்பாட்டுச்
செயற்றிட்டம் - 2020

பயிற்சிக் கையேடு - 04

தரம் 6

அலகு 4

இலங்கையின் அமைவிடம்

பகுதி I

01 இலங்கை அமைந்துள்ள சமுத்திரம் எது?

- 1 இந்து 2 பசுபிக் 3 அத்திலாந்திக் 4 ஆட்டிக்

02 இலங்கை இந்தியாவிற்கு எத்திசையில் அமைந்துள்ளது?

- 1 தெற்கு 2 வடக்கு 3 கிழக்கு 4 மேற்கு

03 இலங்கை அமைவு பெற்றுள்ள கண்டம் எது?

- 1 ஆசியா 2 ஐரோப்பா 3 ஆபிரிக்கா 4 அவுஸ்ரேலியா

04 உலகின் மிகப் பெரிய கண்டம் எது?

- 1 ஆசியா 2 ஐரோப்பா 3 ஆபிரிக்கா 4 அவுஸ்ரேலியா

05 இலங்கையையும் இந்தியாவையும் பிரிக்கும் நீரிணை எது?

- 1 மலாக்கா நீரிணை 2 மகலன் நீரிணை 3 பெரிங் நீரிணை 4 பாக்கு நீரிணை

06 பாக்கு நீரிணையின் நீளம் எவ்வளவு?

- 1 28 கிலோ மீற்றர் 2 30 கிலோ மீற்றர் 3 32 கிலோ மீற்றர் 4 34 கிலோ மீற்றர்

07 இந்திய உபகண்டத்தில் இருந்த வீசும் வண்டி காற்றினால் வெப்பநிலை அதிகரித்துக் காணப்படும்

பகுதி

- 1 வடபகுதி 2 தென்பகுதி 3 கிழக்குப்பகுதி 4 மேற்குப்பகுதி

08 இலங்கையில் புதிய பொரளாதார முறைகளின் தோற்றத்திற்குக் காரணமானவர்கள்

- 1 அரேபியர் 2 சீனர் 3 இந்தியர் 4 ஐரோப்பியர்

09 பின்வருவனவற்றைத் தொடர்புபடுத்தினால் வரும் விடை

- 1 வடக்கு A இந்து சமுத்திரம்
2 கிழக்கு B ஆபிரிக்கா
3 மேற்கு C தென்கிழக்காசியா
4 தெற்கு D ஆசியா

- 1 ACDB 2 BACD 3 CDAB 4 DCBA

- 10 புராதன காலம் தொட்டு கீழைத்தேய மேலைத்தேய வர்த்தகத்துடன் தொடர்புடைய முக்கியமான இயற்கைத் துறைமுகமாக உள்ளது
- 1 திருகோணமலை 2 கண்டி 3 நுவரேலியா 4 அனுராதபுரம்
- 11 திருக்கோணேச்சுவரர் ஆலயம் அருகில் அமைந்துள்ள இடம்
- 1 திருகோணமலை 2 கண்டி 3 நுவரேலியா 4 அனுராதபுரம்
- 12 தலதாமாளிகை என்னும் வழிபாட்டுத்தலம் உள்ள இடம்
- 1 திருகோணமலை 2 கண்டி 3 நுவரேலியா 4 அனுராதபுரம்
- 13 பின்வருவனவற்றுள் சுற்றுலா நகரமாக விளங்குவது
- 1 திருகோணமலை 2 கண்டி 3 நுவரேலியா 4 அனுராதபுரம்
- 14 புராதன நீர்வள நாகரிகத்தின் மத்திய நிலையமாக விளங்கியது
- 1 திருகோணமலை 2 கண்டி 3 நுவரேலியா 4 அனுராதபுரம்
- 15 கரையோரத்தில் ஒல்லாந்தரின் கோட்டை, வெளிச்ச வீடு, துறைமுகம் என்பன காணப்படுவதால் முக்கியமான நகரமாக உள்ளது.
- 1 காலி 2 அம்பாந்தோட்டை 3 மத்தள 4 கொட்டாவ
- 16 சீனாவால் அண்மைக்காலத்தில் சீனாவால் அமைக்கப்பட்ட துறைமுகம் உள்ள இடம்
- 1 காலி 2 அம்பாந்தோட்டை 3 மத்தள 4 கொட்டாவ
- 17 கட்டுநாயக்காவைப் போன்று சர்வதேச விமான நிலையம் அமைந்துள்ள இடம்
- 1 காலி 2 அம்பாந்தோட்டை 3 மத்தள 4 கொட்டாவ
- 18 தெற்கு அதிவேகப் பாதையின் நுழைவாயிலாக அமைந்துள்ளது.
- 1 காலி 2 அம்பாந்தோட்டை 3 மத்தள 4 கொட்டாவ
- 19 தற்போது இந்தியாவிடம் ஒப்படைக்கப்பட்டுள்ள விமான நிலையம் அமைந்துள்ள இடம்
- 1 காலி 2 அம்பாந்தோட்டை 3 மத்தள 4 கொட்டாவ
- 20 முக்கியமான வர்த்தக மையமாக விளங்குவது
- 1 கொழும்பு 2 கோட்டை 3 கொட்டாவ 4 பொலநறுவை
- 21 சீனாவின் உதவியுடன் துறைமுகம் விருத்தி செய்யப்பட்டுள்ளதுடன் புதிய நிலப்பரப்பும் உரவாக்கப்பட்டுள்ள இடம்
- 1 கொழும்பு 2 கோட்டை 3 கொட்டாவ 4 பொலநறுவை
- 22 பின்வருவனவற்றுள் இந்து சமுத்திரத்தில் அமைவு பெற்றிருக்காத தீவு
- 1 சிசெல்ஸ் 2 மாலைதீவு 3 கியூபா 4 மட்காஸ்கர்

23 பசுபிக் சமுத்திரத்தில் அமைவு பெற்றிருக்காத தீவு

- 1 ஜப்பான் 2 பிரித்தானியா 3 தாய்வான் 4 பிலிப்பைன்ஸ்

24 உலகின் மிகப்பெரிய தீவாக அமைந்திருப்பது

- 1 கிறீன்லாந்து 2 பிரித்தானியா 3 ஐஸ்லாந்து 4 நியூசிலாந்து

25 அத்திலாந்திக் சமுத்திரத்தில் அமைவு பெற்றுள்ள தீவு

- 1 கியூபா 2 ஜப்பான் 3 கிறீன்லாந்து 4 பெரிய பிரித்தானியா

பகுதி II

01 இலங்கையும், இந்தியாவும் ஒத்த தன்மையைக் கொண்டுள்ள விடயங்கள் எவை?

.....

02 இலங்கையின் அமைவிடம் காலநிலையில் எவ்வாறு செல்வாக்குச் செலுத்துகின்றது?

.....

.....

.....

.....

.....

.....

03 இலங்கையின் அமைவிடம் பொருளாதாரத்தில் எவ்வாறு செல்வாக்குச் செலுத்துகின்றது?

.....

.....

.....

.....

.....

.....

04 இலங்கையின் அமைவிடம் கலாசாரத்தில் எவ்வாறு செல்வாக்குச் செலுத்துகின்றது?

.....

.....

.....

.....

.....

05 ஒரு நாட்டின் அமைவிடத்தைக் கூறும் இரு முறைகளும் எவை?

.....

.....

06 சார்பு அமைவிடம் என்றால் என்ன?

.....

.....

.....

07 இலங்கையின் சார்பு அமைவிடத்தைக் குறிப்பிடுக.

.....

.....

08 இந்தியாவில் காணப்படும் முக்கிய நதிகள் எவை?

.....

09 இலங்கையில் மேற்கொள்ளப்பட்டு வரும் அபிவிருத்திச் செயற்றிட்டங்கள் எவை?

.....

.....

.....

.....

10 இலங்கையில் பொருளாதார, சமூக, கலாசார ரீதியாக முக்கியத்துவம் பெறும் இடங்கள் எவை

.....

.....

11 பின்வரும் சமுத்திரங்களில் அமைவு பெற்றுள்ள தீவுகளைக் குறிப்பிடுக

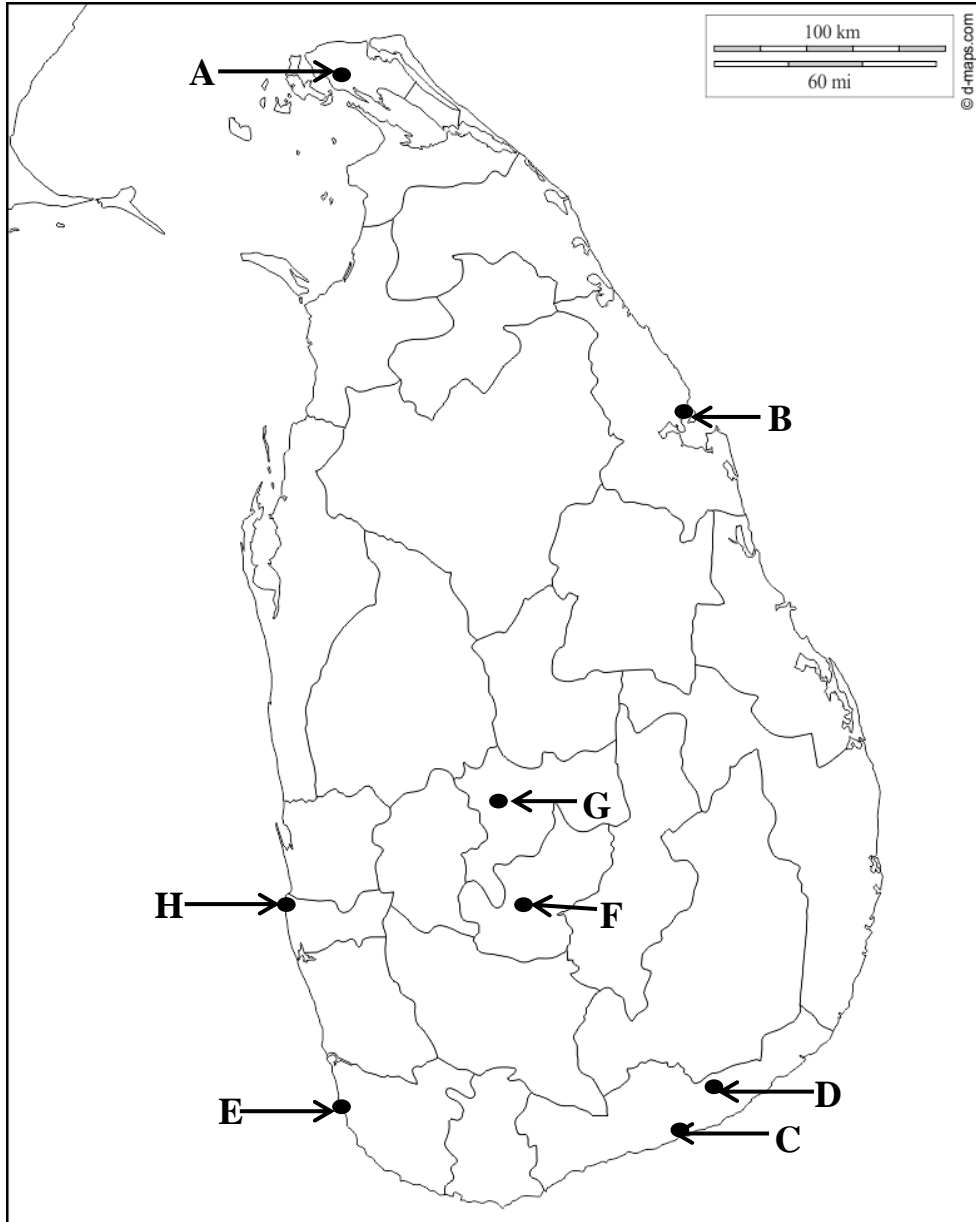
இந்து சமுத்திரம்

பசுபிக் சமுத்திரம்

அத்திலாந்திக் சமுத்திரம்

ஆட்டிக் சமுத்திரம்

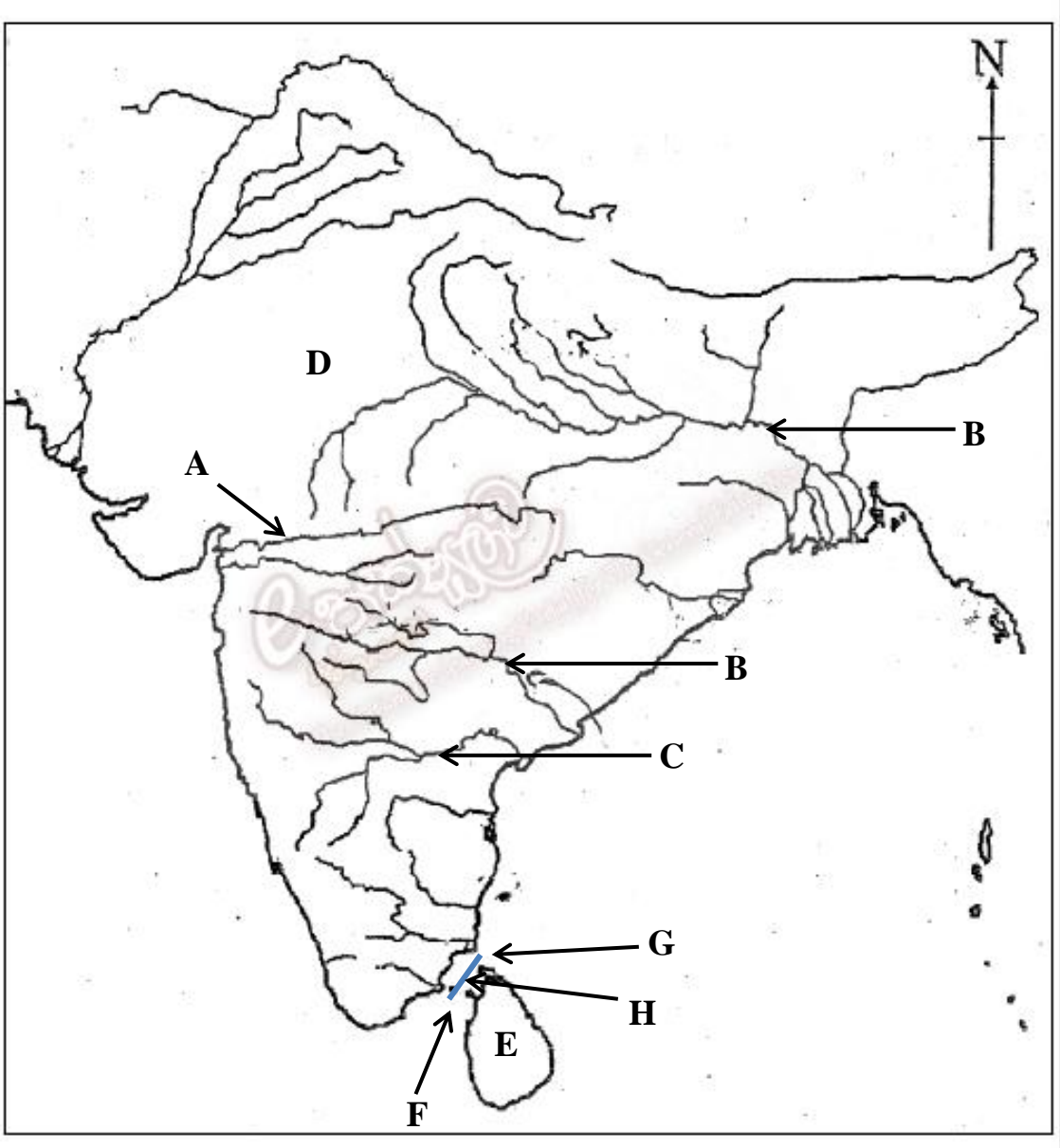
12 பின்வரும் ஆங்கில எழுத்துக்களால் குறிப்பிடப்படும் இடங்களின் பெயர்களை எழுதுக.



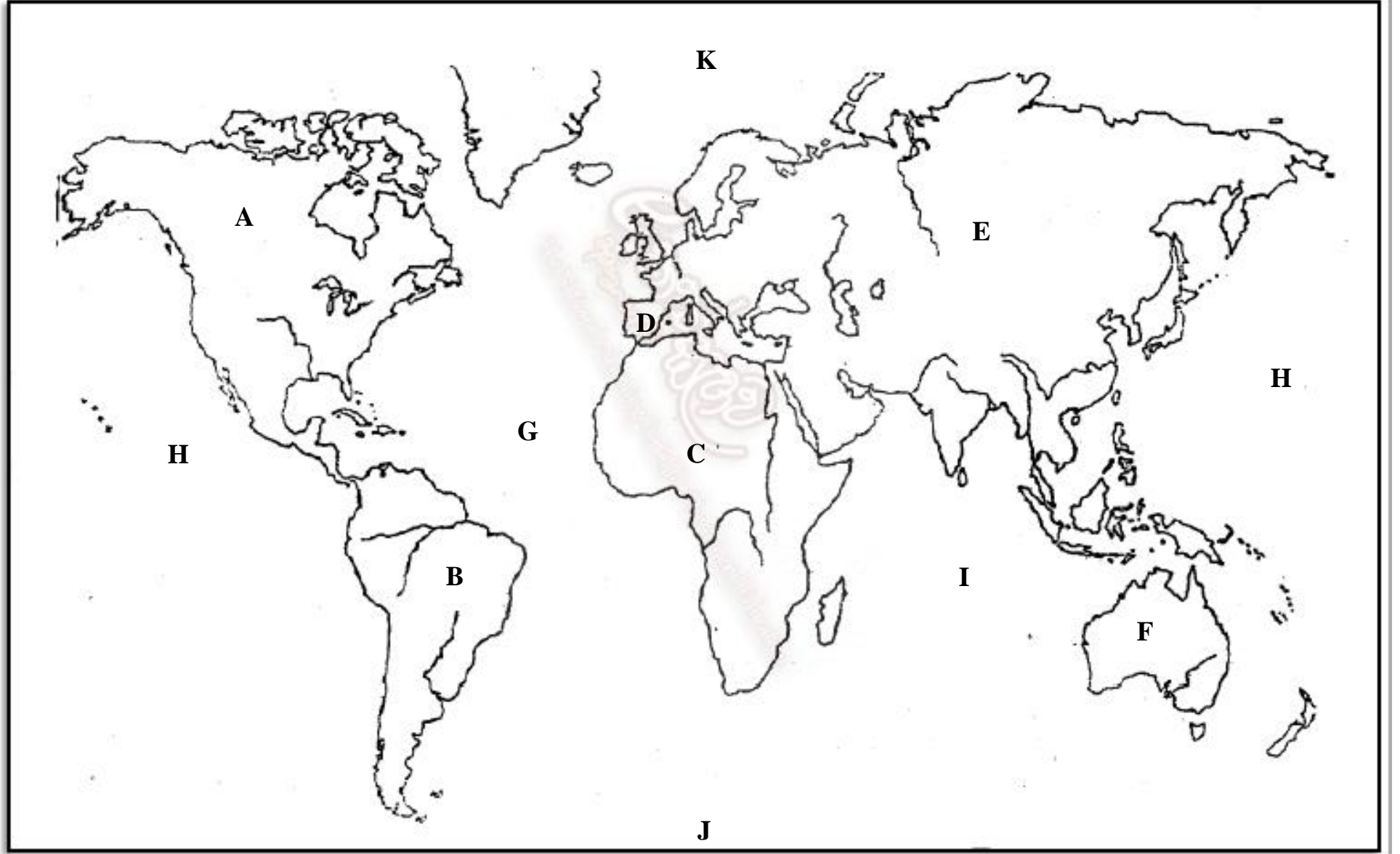
13 பின்வரும் ஆங்கில எழுத்துக்களால் குறிப்பிடப்படும் இடங்களின் பெயர்களை எழுதுக.

அரபிக்கடல், இந்தியா, இலங்கை, பாக்குநீரிணை, வங்காள விரிகுடா

நர்மதா, கங்கை, கோதாவரி, கிருஷ்ணா



14 பின்வரும் ஆங்கில எழுத்துக்களால் குறிப்பிடப்படும் கண்டங்கள், சமுத்திரங்களின் பெயர்களை எழுதுக.



A

15 பின்வரும் ஆங்கில எழுத்துக்களால் குறித்துக் காட்டப்படும் தீவுகளை எழுதுக.

கிறின்லாந்து, சிசிலி, கியூபா, மடகஸ்கார், இலங்கை,தாய்வான், ஜப்பான், நியூசிலாந்து, மாலைதீவு, ஐஸ்லாந்து, பெரிய பிரித்தானியா, சிசெல்ஸ்,

