



வலயக்கல்வி அலுவலகம் - வடமராட்சி
இரண்டாம் தவணைப்பரீட்சை - 2018

தரம் - 1


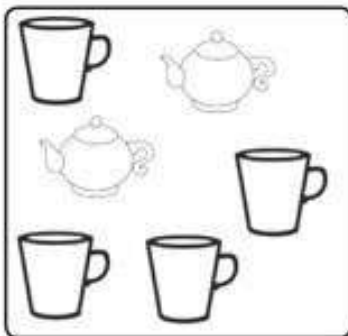
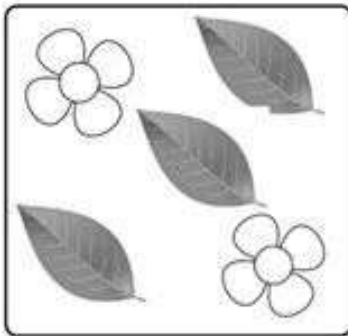



கணிதம்

நேரம் : 1 மணி




கூடுதல் :

புள்ளி

01. உருவங்களுக்கு ஏற்ப வேறுபடுத்தி வரையுங்கள்.

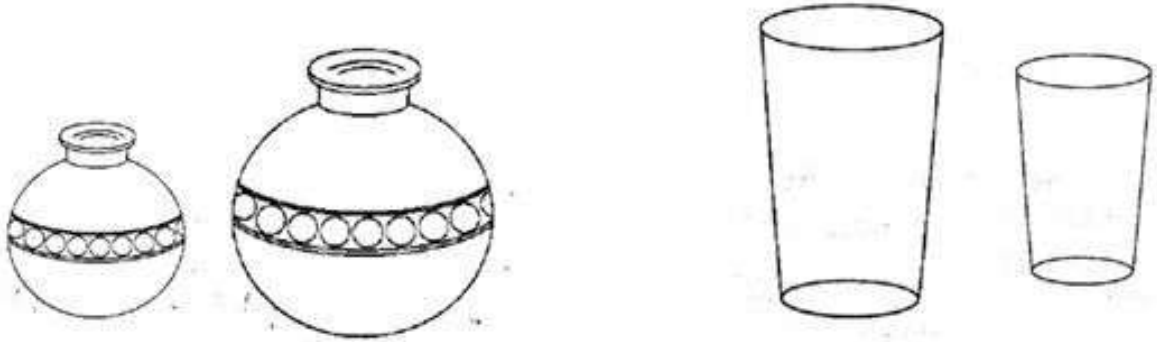


02. ஒன்றுடன் ஒன்றை இணையுங்கள். கூடிய தொகுதி இருப்பின் வட்டம் இடுங்கள்.

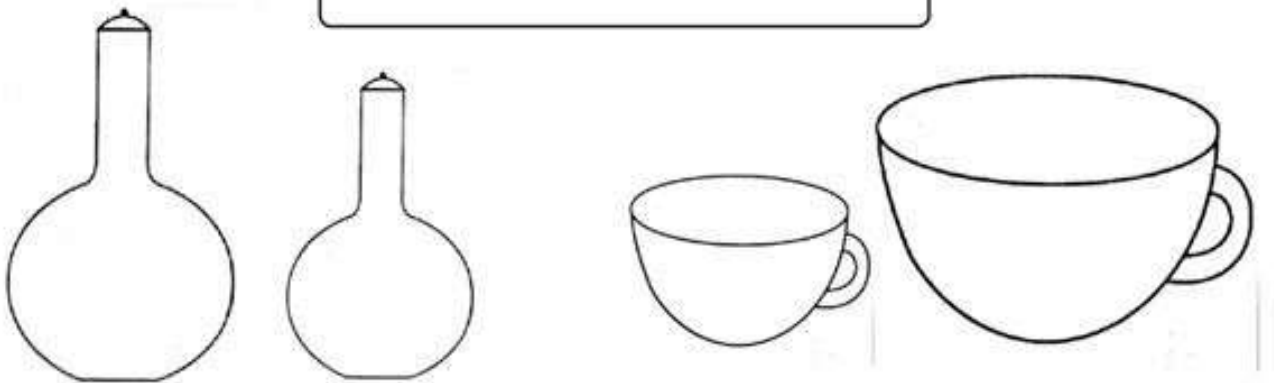


($3 \times 2 = 6$ புள்ளிகள்)

03. அதிக அளவு நீரைக்கொள்ளும் பாத்திரத்தை நிறம் தீட்டுங்கள்.



குறைந்த அளவு நீரைக் கொள்ளும் பாத்திரத்தை நிறம் தீட்டுங்கள்.



(4x3=12 புள்ளிகள்)

04. முன்னால் செல்லும் விலங்கின் கீழே கோடு வரையுங்கள்



பின்னால் செல்லும் வாகனத்தின் கீழே கோடு வரையுங்கள்


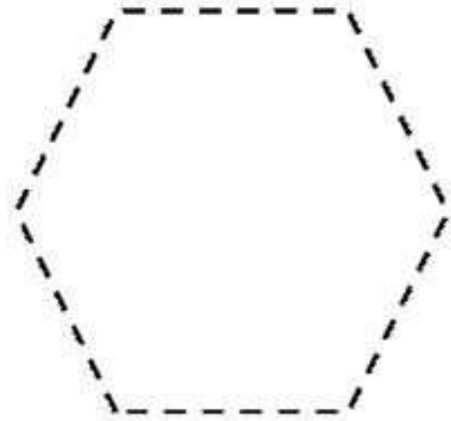
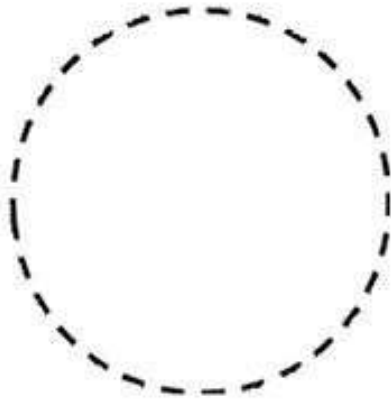


நடுவில் உள்ள பிராணியின் கீழ் கோடிடுக.










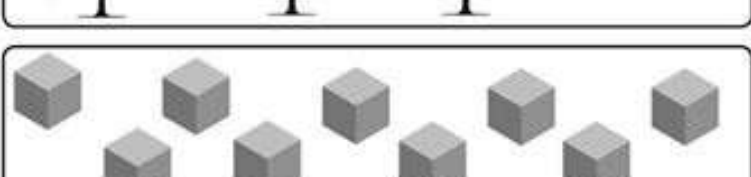

(3x3=9 புள்ளிகள்)

05. வடிவங்களை வரையுங்கள். நிறம் தீட்டுங்கள்.



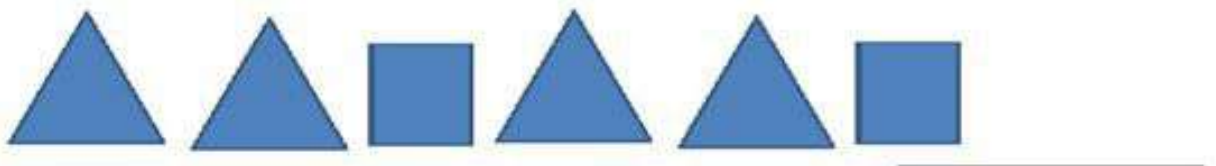


(8x4=32 புள்ளிகள்)

06. எழுத்துக்களில் எழுதுங்கள்







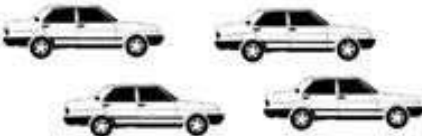

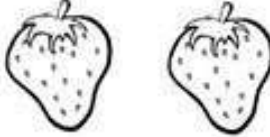





2		இரண்டு
6		
8		
1		
7		
5		
3		
9		
4		

(8x2=16 புள்ளிகள்)

07. கோலத்தில் அடுத்துவரும் உருவத்தை வரைந்து நிறந் தீட்டுங்கள்.



08. கூட்டுக.

 3 +  =	
 3  + 2 எல்லாமாக எத்தனை? _____	 6  + 3 எல்லாமாக எத்தனை? _____
 4  + 5 எல்லாமாக எத்தனை? _____	 2  + 3 எல்லாமாக எத்தனை? _____
 6  + 2 எல்லாமாக எத்தனை? _____	 4  + 4 எல்லாமாக எத்தனை? _____