

NEW GEOGRAPHY EXAMINATION

கல்விப் பொதுத் தராதரப் பத்திர (உயர்-தர) மாதிரி வினாத்தாள், 2020 ஓகஸ்ட்
General Certificate of Education (Adv. Level) Model Paper, August 2020

புவியியல் II
Geography II

22 T II

மூன்று மணித்தியாலம்
Three hours

மேலதிக வாசிப்பு நேரம் - 10 நிமிடங்கள்
Additional Reading Time - 10 minutes

வினாப் பத்திரத்தை வாசித்து வினாக்களைத் தெரிவு செய்வதற்கும், விடையெழுதும்போது முன்னுரிமை வழங்கும் வினாக்களை ஒழுங்கமைத்துக் கொள்வதற்கும் மேலதிக வாசிப்பு நேரத்தைப் பயன்படுத்துக.

ஆசிரியர்: திரு. ஏ. கஜன் B.A Tamil (R)
077 2400 707 / 076 8044 959

MODEL PAPER 1
மாதிரி வினாத்தாள்

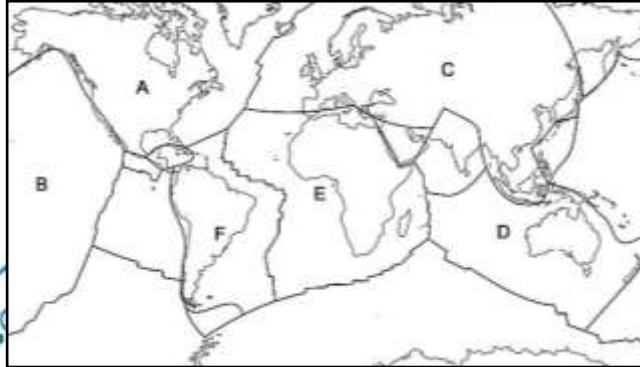
அறிவுறுத்தல்கள்:

சுட்டெண்:.....

- * ஒவ்வொரு பகுதியிலிருந்தும் குறைந்தபட்சம் இரண்டு வினாக்களையேனும் தெரிவுசெய்து, எல்லாமாக ஐந்து வினாக்களுக்கு மாத்திரம் விடை எழுதுக.

பகுதி I - பௌதிகப் புவியியல்

1. (i) கீழே படத்தில் அடையாளப்படுத்தப்பட்டுள்ள தகட்டோட்டுத் தகடுகளைச் சரியாக (03 புள்ளிகள்)
இனங்கண்டு பெயரிடுக.



- (ii) 'தகட்டசைவு' என்பதனால் நீர் விளங்கிக்கொள்வது யாது? (02 புள்ளிகள்)
(iii) தகட்டசைவுகளின் நிலைமாற்றத்தின் விளைவாகவே புவிநடுக்கங்கள் மற்றும் எரிமலைகள் தோற்றம் பெறுகின்றன" - மேற்படி கூற்றைப் பொருத்தமான உதாரணங்கள் மற்றும் வரைபட உதவியுடன் ஆராய்க. (09 புள்ளிகள்)
(iv) புவிநடுக்கத்தினால் ஏற்படும் பௌதிக மற்றும் மானிட ரீதியான பாதிப்புகள் நான்கினைப் பொருத்தமான உதாரணங்கள் தந்து பரிசீலிக்குக. (06 புள்ளிகள்)
2. (i) 'உயிரினக் கூட்டங்கள்' என்பதை வரையறை செய்க. (02 புள்ளிகள்)
(ii) கீழே A மற்றும் B ஆகிய ஆங்கில எழுத்துக்களால் குறித்துக் காட்டப்படும் உலகின் பிரதான இரு கண்டங்களிலும் பரம்பிக் காணப்படும், உயிரினக் கூட்டமொன்று நிழற்றிக் காட்டப்பட்டுள்ளது.



மேலே A, B என அடையாளப்படுத்தப்பட்டுள்ள உயிரினக் கூட்டத்தை பின்வரும் தலைப்புக்களின் கீழ் விவரிக்க.

(அ) காலநிலைக் காரணிகள்

(ஆ) இயற்கைத் தாவரம்

(04 புள்ளிகள்)

(iii) மேலே வினா (ii) இல் உம்மால் அடையாளங் காணப்பட்ட உயிரினக் கூட்டத்தின் அழிவிற்குப் பொறுப்பான நான்கு காரணிகளைச் உதாரணம் தந்து விளக்குக.

(08 புள்ளிகள்)

(iv) உலக உயிரினக் கூட்டங்களில் ஏற்பட்டுவரும் தாக்கங்களைக் குறைக்க முன்வைக்கக்கூடிய எவையேனும் மூன்று நடவடிக்கைகளைப் பரிசீலிக்குக.

(06 புள்ளிகள்)

3. (i) பௌதிக அமைப்பின் அடிப்படையில் பாறைகளை வகைப்படுத்துக.

(03 புள்ளிகள்)

(ii) மேலே வினா (i) இல் உம்மால் அடையாளம் செய்யப்பட்ட பாறை வகைகளில் ஏதாவது ஒன்றினைத் தெரிந்தெடுத்து விளக்கப்பட உதவியுடன் ஆராய்க.

(05 புள்ளிகள்)

(iii) மண் உருவாக்கக் காரணிகள் எவையேனும் நான்கினைச் சுருக்கமாக விளக்குக.

(06 புள்ளிகள்)

(iv) புறம்பிறந்தவிசைச் செயற்பாடுகளுடன் தொடர்புபடும் உரிவுக் கருவிகள் காரணமாகப், பாறைகள் மற்றும் மண் என்பவற்றின் அமைப்பு மற்றும் கட்டமைப்பு ஏற்படவல்ல பௌதிக ரீதியான மாற்றங்களை வரைபட உதவியுடன் விளக்குக.

(06 புள்ளிகள்)

4. (i) வளிமண்டலத்தின் முதலிலைச் சுற்றோட்டத்தில் உள்ளடங்கும் காற்றுப் பாங்குகளை அடையாளம் செய்க.

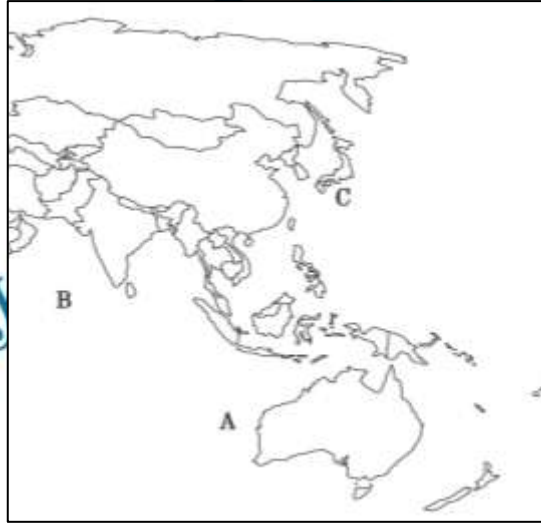
(03 புள்ளிகள்)

(ii) மேலே வினா (i) இல் நீர் அடையாளம் செய்த காற்றுப் பாங்குகளில் யாதேனும் ஒன்றைத் தெரிந்தெடுத்து அதன் இயல்புகளை விவரிக்குக.

(04 புள்ளிகள்)

(iii) கீழே தரப்பட்டுள்ள உலகப் புறவுருவப் படத்தில் பிரதான சில அயனமண்டலச் சூறாவளிகளின் உருவாக்கப் பிரதேசங்கள் A – C வரையான ஆங்கில எழுத்துக்களால் அடையாளம் செய்யப்பட்டுள்ளன. அவற்றைச் சரியாக இனங்கண்டு எழுதுக.

(03 புள்ளிகள்)



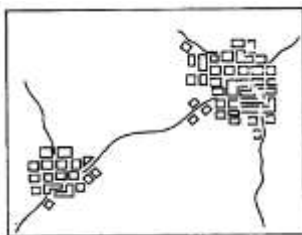
(iv) சூறாவளித் தாக்கத்தினால் ஏற்படவல்ல பௌதிக மற்றும் மானிட ரீதியான ஐந்து தாக்கங்களைச் சுருக்கமாக விவரிக்குக.

(10 புள்ளிகள்)

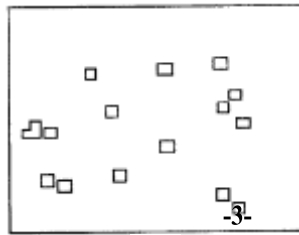
பகுதி II – மானிடப் புவியியல்

5. (i) கீழே A, B மற்றும் C ஆகிய ஆங்கில எழுத்துக்களால் அடையாளம் செய்யப்பட்டுள்ள குடியிருப்புப் பாங்குகளைச் சரியாக இனங்கண்டு எழுதுக.

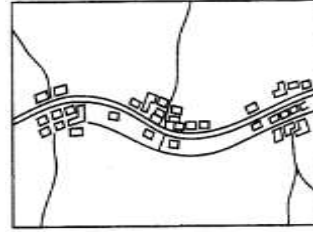
(03 புள்ளிகள்)



A

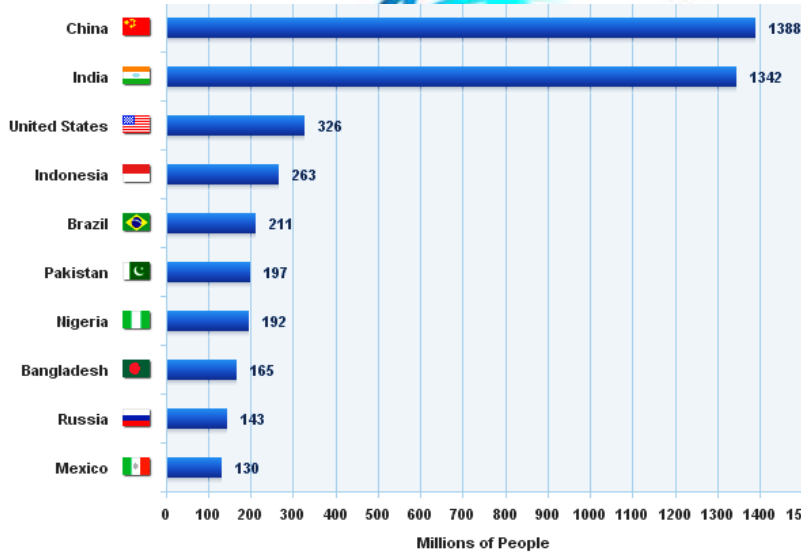


B



C

- (ii) **A மற்றும் B** ஆகிய குடியிருப்புகளின் முனைப்பான பண்புகள் தலா மூன்றினை அடையாளம் செய்க. (03 புள்ளிகள்)
- (iii) இலங்கையின் குடியிருப்புகளின் நவீன போக்குத் தொடர்பில் சுருக்கமாக ஆராய்க. (06 புள்ளிகள்)
- (iv) இலங்கையின் நகராக்க வேகம் மிகவும் மந்தகதியில் அமைவதில் செல்வாக்குச் செலுத்தும் **மூன்று** காரணிகளைச் சுருக்கமாகப் பரிசீலிக்குக. (08 புள்ளிகள்)
6. (i) இலங்கை சுற்றுலா சபையினால் அடையாளம் செய்யப்பட்டுள்ள பிரதான சுற்றுலா வலயங்கள் எவையேனும் **நான்கினைப்** பெயரிடுக. (02 புள்ளிகள்)
- (ii) இலங்கைக்கு அதிகளவிலான உல்லாசப் பிரயாணிகள் வருகை தருவதற்கான **மூன்று** காரணிகளைச் சுருக்கமாக விவரிக்குக. (06 புள்ளிகள்)
- (iii) உல்லாசப் பிரயாணக் கைத்தொழிலின் காரணமாக இலங்கை எதிர்நோக்கியுள்ள பாதிப்புக்களைப் பின்வரும் தலைப்புக்களின் கீழ் சுருக்கமாக ஆராய்க.
(அ) பௌதிகப் பாதிப்புகள் (ஆ) சமூகப் பாதிப்புகள் (06 புள்ளிகள்)
- (iv) இலங்கையின் பொருளாதாரத்திற்கு கைத்தொழில்களின் பங்களிப்பினை எவையேனும் **மூன்று** விடயங்களை அடிப்படையாகக் கொண்டு சுருக்கமாக விளக்குக. (06 புள்ளிகள்)
7. உலகில் சனத்தொகை கூடிய முதல் **பத்து** நாடுகள் தொடர்பிலான தரவுகள் கீழுள்ள வரைபு மூலம் இனங்காட்டப்பட்டுள்ளன. அதனை அடிப்படையாகக் கொண்டு அதன் கீழுள்ள வினாக்களுக்கு விடையளிக்குக.



- (i) மேற்படி வரைபினை அடிப்படையாகக் கொண்டு நோக்கும் போது உலகின் சனத்தொகைப் பரம்பல் பாங்கில் அவதானிக்கத்தக்க முனைப்பான பண்புகள் **மூன்று** தருக. (03 புள்ளிகள்)
- (ii) மேலே வினா (i) இற்கு உம்மால் வழங்கப்பட்ட விடைகளையும், உமது பின்னணி அறிவையும் அடிப்படையாகக் கொண்டு, உலகின் சமனற்ற சனத்தொகைப் பரம்பலைத் தீர்மானிக்கும் **ஆறு** பிரதான காரணிகளை அடையாளம் செய்க. (03 புள்ளிகள்)
- (iii) **ஒன்றில்** இந்தியா **அல்லது** சீனா சனத்தொகை அதிகரிப்பினால் எதிர்நோக்கத்தக்க **மூன்று** சவால்களைச் சுருக்கமாக விளக்குக. (06 புள்ளிகள்)
- (iv) சனத்தொகை குறைந்த நாடுகள் எதிர்நோக்கும் **இரண்டு** பிரச்சினைகளையும், அதற்குத் தீர்வாக அவை மேற்கொள்ள முடியுமென நீர் கருதும் **இரண்டு** ஆலோசனைகளையும் சுருக்கமாக விளக்குக. (08 புள்ளிகள்)

8. (i) 'பிராந்திய அமைப்புகள்' எனும் பதத்தைத் தெளிவுறுத்துக. (02 புள்ளிகள்)
- (ii) "வளர்முக நாடுகளின் பிராந்திய நிறுவனங்கள் உலகமயமாக்கலின் சவால்களை வெற்றிகரமாக எதிர்கொள்வதை முதன்மை நோக்காகக் கொண்டுள்ளன" ஆசியாவில் இரண்டு முக்கியமான பிராந்திய நிறுவனங்களிலிருந்து குறிப்பான உதாரணங்கள் தந்து இக் கூற்றினைப் பரிசீலிக்குக. (08 புள்ளிகள்)
- (iii) உலகின் நான்கு பிரதான பல்தேசிய நிறுவனங்களைப் பெயரிடுக. (02 புள்ளிகள்)
- (iv) உலகப் பொருளாதாரத்தில் பல்தேசிய நிறுவனங்களின் முக்கியத்துவத்தினை எடுத்துக்காட்டும் நான்கு காரணிகளைச் சுருக்கமாக விவரிக்குக. (08 புள்ளிகள்)

* * *

