



දෙවන වාර පරීක්ෂණය - 12 ශ්‍රේණිය - 2018

Second Term Test - Grade 12 - 2018

විභාග අංකය

රසායන විද්‍යාව I

කාලය පැය දෙකයි

සැලකිය යුතුයි

- මෙම ප්‍රශ්න පත්‍රය සමඟ ආවර්තිතා වගුවක් සපයා ඇත.
- ගණක යන්ත්‍ර භාවිතයට ඉඩ දෙනු නොලැබේ.
- සියලුම ප්‍රශ්නවලට පිළිතුරු සපයන්න.
- උත්තර පත්‍රයේ නියමිත ස්ථානයේ ඔබේ විභාග අංකය ලියන්න.
- 1 සිට 50 තෙක් වූ එක් එක් ප්‍රශ්නයට (1), (2), (3), (4), (5) යන පිළිතුරුවලින් නිවැරදි හෝ ඉතාමත් ගැලපෙන හෝ තෝරාගෙන , එය උත්තර පත්‍රයේ පිටුපස දැක්වෙන උපදෙස් පරිදි කතිරයක් යොදා දැක්වන්න.

සාර්වත්‍ර වායු නියතය $R = 8.314 \text{ J mol}^{-1}\text{K}^{-1}$ / ඇවගාඩරෝ නියතය $N_A = 6.022 \times 10^{23} \text{ mol}^{-1}$ / ප්ලාන්ක් නියතය $h = 6.626 \times 10^{-34} \text{ JS}$ / ආලෝකයේ ප්‍රවේගය $C = 3 \times 10^8 \text{ mS}^{-1}$

1. රදර්ෆර්ඩ්ගේ රන්පත් පරීක්ෂාව සඳහා ඔහුට සහාය දැක්වූයේ,
 1. ජේම්ස් චැඩ්වික් සහ අර්නස්ට් මාස්ඩන්
 2. J.J. තොම්සන් සහ ජේම්ස් චැඩ්වික්
 3. අර්නස්ට් මාස්ඩන් සහ J.H.W. ගයිගර්
 4. H.G.J. මෝස්ලි සහ J.H.W. ගයිගර්
 5. N.H.D. බෝර් සහ අර්නස්ට් මාස්ඩන්

2. 410 nm තරංග ආයාමයක් සහිත දම්පැහැ ආලෝක කිරණයක ශක්තිය වනුයේ,
 1. $\frac{6.626 \times 10^{-34} \times 3 \times 10^8}{410} \text{ J}$
 2. $\frac{6.626 \times 10^{-34} \times 3 \times 10^8}{410 \times 10^{-6}} \text{ J}$
 3. $\frac{6.626 \times 10^{-31} \times 3 \times 10^8}{410 \times 10^{-6}} \text{ J}$
 4. $\frac{6.626 \times 10^{-34} \times 3 \times 10^8}{410 \times 10^{-9}} \text{ J}$
 5. $\frac{6.626 \times 10^{-31} \times 3 \times 10^8}{410 \times 10^{-9}} \text{ J}$

3. දී ඇති අයනවල අරයන් ආරෝහණය වන පිළිවෙල නිවැරදිව දක්වා ඇත්තේ,
 1. $\text{Na}^+ < \text{Mg}^{2+} < \text{Al}^{3+} < \text{N}^{3-} < \text{O}^{2-}$
 2. $\text{Al}^{3+} < \text{Mg}^{2+} < \text{Na}^+ < \text{O}^{2-} < \text{N}^{3-}$
 3. $\text{Mg}^{2+} < \text{Na}^+ < \text{Al}^{3+} < \text{N}^{3-} < \text{O}^{2-}$
 4. $\text{Na}^+ < \text{Mg}^{2+} < \text{Al}^{3+} < \text{N}^{3-} < \text{O}^{2-}$
 5. $\text{Mg}^{2+} < \text{Al}^{3+} < \text{Na}^+ < \text{N}^{3-} < \text{O}^{2-}$

4. පහත දී ඇති සංයෝගවලින් IUPAC නාමයන් නිවැරදිව දක්වා නැත්තේ කුමකද?

සංයෝගය	IUPAC නාමය
1. $\text{N}_2 \text{O}_3$	dinitrogen trioxide
2. $\text{Na}_2 \text{O}$	disodium oxide
3. $\text{NaH}_2 \text{PO}_4$	Sodium dihydrogen phosphate
4. KClO	Potassium hypochlorite
5. NaHCO_3	Sodium hydrogen carbonate

5. අසංගුද්ධ $CaCO_3$ සාම්පලයකින් 10.0 g තදින් රත් කරන ලදී. එහිදී පිටවූ වායුවේ පරිමාව සම්මත උෂ්ණත්වය හා පීඩනයේ දී 1.792 dm^3 විය. මෙම අසංගුද්ධ සාම්පලයේ $CaCO_3$ හි ස්කන්ධ ප්‍රතිශතය වනුයේ, (සම්මත උෂ්ණත්ව සහ පීඩනයේ දී වායු මවුල එකක පරිමාව 22.4 dm^3 වේ. $Ca = 40, C = 12, O = 16$)

1. 20% 2. 75% 3. 80% 4. 25% 5. 90%

6. නයිට්‍රජන්හි ඔක්සිකරණ අවස්ථාව -2 වන්නේ,

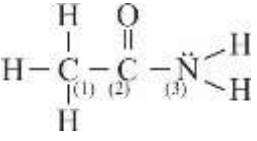
1. NH_2OH 2. NF_3 3. N_2O_4 4. N_2H_4 5. NO_2F

7. $XeOF_4$ හි ඉලෙක්ට්‍රෝන යුගල ජ්‍යාමිතිය සහ හැඩය පිළිවෙලින් වනුයේ,

- | | |
|------------------------------------|------------------------------------|
| 1. අෂ්ටකලීය, සමවකුරසුකාර පිරමීඩය | 2. සමවකුරසුකාර පිරමීඩය, අෂ්ටකලීය |
| 3. ත්‍රියානනි ද්විපිරමීඩය, සි - සෝ | 4. සි - සෝ, ත්‍රියානනි ද්විපිරමීඩය |
| 5. අෂ්ටකලීය, තලීය සමවකුරසුකාර | |

8. Na_2CO_3 26.5 mg ක්, ජලය 500 cm^3 ක් සමඟ මිශ්‍රකරන ලදී. ද්‍රාවණයේ මවුලීයතාවය වනුයේ, (ජලයේ සනත්වය 1 g cm^{-3} වේ. $Na = 23, C = 12, O = 16$)

1. 0.25 mol kg^{-1} 2. $5 \times 10^{-4}\text{ mmol kg}^{-1}$ 3. 0.25 mmol kg^{-1}
4. $5 \times 10^{-4}\text{ mol kg}^{-1}$ 5. $5 \times 10^{-5}\text{ mol kg}^{-1}$

9.  අණුවේ, නම් කර ඇති (1), (2), (3) පරමාණුවල මුහුම්කරණ අවස්ථා පිළිවෙලින් වනුයේ,

1. sp^2, sp^2, sp^3 2. sp^3, sp^2, sp^3 3. sp^3, sp, sp^3
4. sp^2, sp^3, sp^2 5. sp^3, sp, sp^2

10. සාන්ද්‍රණය 0.1 mol dm^{-3} ක් වූ $NaCl$ ද්‍රාවණයකින් 100 cm^3 ක් සහ 0.05 mol dm^{-3} ක් වූ $CaCl_2$ ද්‍රාවණයකින් 100 cm^3 එකිනෙක මිශ්‍රකර මිශ්‍රණයේ මුලු පරිමාව 250 cm^3 වන තෙක් ජලය දමා තනුක කරන ලදී. ලැබෙන නව ද්‍රාවණයේ ක්ලෝරයිඩ් අයන සාන්ද්‍රණය mol dm^{-3} වලින් වනුයේ,

1. 0.02 2. 0.08 3. 0.01
4. 0.06 5. 0.1

11. X හා Y නම් වායු දෙකක් අඩංගු වායු මිශ්‍රණයක මුළු පීඩනය $8 \times 10^5\text{ Pa}$ වන අතර X වායුවේ ආංශික පීඩනය $5 \times 10^5\text{ Pa}$ වේ. වායු මිශ්‍රණයේ අඩංගු මුළු වායු මවුල සංඛ්‍යාව 1.6 mol වේ. Y හි මවුලීය ස්කන්ධය 4 g mol^{-1} නම්, මිශ්‍රණයේ ඇති Y වායු ස්කන්ධය වනුයේ,

1. 0.24 g 2. 2g 3. 1.2 g
4. 4 g 5. 2.4 g

12. ඒතේන් $[C_2H_6(g)]$ වායුවේ සම්මත උත්පාදන එන්තැල්පිය, $CO_2(g)$ සම්මත උත්පාදන එන්තැල්පිය සහ $H_2O(l)$ හි සම්මත උත්පාදන එන්තැල්පිය පිළිවෙලින් -84.7 kJmol^{-1} , -394 kJmol^{-1} සහ -286 kJmol^{-1} වේ. $[C_2H_6(g)]$ (ඒතේන්) හි සම්මත දහන එන්තැල්පිය kJmol^{-1} වලින් වනුයේ,

1. -680 2. 1561.3 3. -1561.3 4. -595.3 5. -1444.7

13. පහත කුමන ප්‍රකාශය අසත්‍ය වේද?

1. අධ්‍යයනය සඳහා විශ්වයෙන් තෝරා ගත් කොටස හැර ඉතිරි සියල්ල පරිසරය වේ.
2. මායිම හරහා ශක්තිය, පදාර්ථය සහ කාර්යය හුවමාරු වන පද්ධති විවෘත පද්ධති වේ.
3. සංවෘත පද්ධතියක මායිම පදාර්ථය සඳහා පාරගමය වේ.
4. මායිම හරහා ශක්තිය, පදාර්ථය හෝ කාර්යය හුවමාරු නොවන පද්ධති ඒකලිත වේ.
5. පද්ධතිය සහ පරිසරය වෙන්කරන සීමාව මායිම වේ.

14. පරමාණුක හයිඩ්‍රජන්හි විමෝචන වර්ණාවලිය සම්බන්ධව පහත දී ඇති ප්‍රකාශන වලින් අසත්‍ය වන්නේ,

1. ලයිමාන් ශ්‍රේණියේ පළමු රේඛා දෙක අතර තරංග ආයාම වෙනස බාමර් ශ්‍රේණියේ පළමු රේඛා දෙක අතර තරංග ආයාම වෙනසට වඩා අඩුවේ.
2. බාමර් ශ්‍රේණියේ පළමු රේඛා දෙක අතර තරංග ආයාම වෙනස පාෂාන් ශ්‍රේණියේ පළමු රේඛා දෙක අතර තරංග ආයාම වෙනසට වඩා වැඩිවේ.
3. බාමර් ශ්‍රේණියේ පළමු රේඛා දෙක අතර ශක්ති වෙනස ලයිමාන් ශ්‍රේණියේ පළමු රේඛා දෙක අතර ශක්ති වෙනසට වඩා අඩුවේ.
4. බාමර් ශ්‍රේණියේ පළමු රේඛා දෙක අතර ශක්ති වෙනස ලයිමාන් ශ්‍රේණියේ දෙවන හා තෙවන රේඛා දෙක අතර ශක්ති වෙනසට සමාන වේ.
5. බාමර් ශ්‍රේණියේ පළමු රේඛා දෙක අතර සංඛ්‍යාත වෙනස ලයිමාන් ශ්‍රේණියේ පළමු රේඛා දෙක අතර සංඛ්‍යාත වෙනසට වඩා අඩු වේ.

15. පැවතිය නොහැකි ක්වොන්ටම් අංක කුලකයක් වන්නේ පහත කුමන ක්වොන්ටම් අංක කුලකය ද?

1. 1, 0, -1, $+\frac{1}{2}$ 2. 2, 1, 0, $-\frac{1}{2}$ 3. 3, 2, -1, $-\frac{1}{2}$
 4. 4, 3, -2, $+\frac{1}{2}$ 5. 2, 1, -1, $+\frac{1}{2}$

16. සහ Na_2CO_3 0.0053 g ක් ජලයේ දියකර මුලු පරිමාව 500 cm^3 වන තෙක් ජලය දමා තනුක කරන ලදී. මෙම ද්‍රාවණයේ Na^+ අයන සාන්ද්‍රණය ppm වලින් වනුයේ, (Na = 23, C = 12, O = 16) ($1 \text{ ppm} = 1 \text{ mg dm}^{-3}$)

1. 4.6 2. 2.3 3. 46 4. 23 5. 230

17. M නම් ලෝහය තනුක $HCl(aq)$ සමඟ මෙන්ම තනුක $NaOH(aq)$ සමඟ ද ප්‍රතික්‍රියා කර $X_2(g)$ නම් වායුවක් පිට කරයි. M ලෝහය සහ $X_2(g)$ පිළිවෙලින් වනුයේ,

1. Mg, H_2 2. Ba, O_2 3. Al, H_2 4. Al, O_2 5. Ba, H_2

18. පරමාණුක ක්‍රමාංකය 42 වන මූලද්‍රව්‍යයෙන් සෑදෙන +3 කැටායනයේ ඇති මූල d ඉලෙක්ට්‍රෝන සංඛ්‍යාව කොපමණද?

1. 15 2. 2 3. 3 4. 12 5. 13

19. 200g ක ස්කන්ධයක් ඇති 100 ms^{-1} වේගයෙන් ගමන් ගන්නා බෝලයක සි-බ්ලෝග්ලි කරංග ආයාමය වනුයේ,
1. $1.100 \times 10^{-35} \text{ m}$
 2. $3.313 \times 10^{-34} \text{ m}$
 3. $3.313 \times 10^{-35} \text{ m}$
 4. $1.100 \times 10^{-34} \text{ m}$
 5. $6.626 \times 10^{-34} \text{ m}$

20. සම්මත එන්තැල්පි පහක් සහ ක්‍රියාවලි පහක් යුගල වශයෙන් පහත දී ඇත. දී ඇති ක්‍රියාවලිය මගින් අදාළ සම්මත එන්තැල්පිය නිවැරදි ලෙස විස්තර නොවන්නේ පහත දැක්වෙන කුමන යුගලයෙහි ද?

සම්මත එන්තැල්පිය	ක්‍රියාවලිය
1. 298 K දී $\text{CH}_3\text{OH}(l)$ හි සම්මත උත්පාදන එන්තැල්පිය	$\text{C}(s, \text{graphite}) + 2\text{H}_2(g) + \frac{1}{2}\text{O}_2(g) \rightarrow \text{CH}_3\text{OH}(l)$
2. ඔක්සිජන්හි දෙවන ඉලෙක්ට්‍රෝනය ලබා ගැනීමේ සම්මත එන්තැල්පිය	$\text{O}^-(g) + e \rightarrow \text{O}^{2-}(g)$
3. $\text{MgCl}_2(s)$ හි සම්මත දැලිස් එන්තැල්පිය	$\text{Mg}^{2+}(g) + 2\text{Cl}^-(g) \rightarrow \text{MgCl}_2(s)$
4. Ca හි සම්මත දෙවන අයනීකරන එන්තැල්පිය	$\text{Ca}(g) \rightarrow \text{Ca}^{2+}(g) + 2e$
5. Na හි සම්මත උෂ්ණත්ව පාතන එන්තැල්පිය	$\text{Na}(s) \rightarrow \text{Na}(g)$

21. පහත වගන්ති වලින් කුමන වගන්තිය අසත්‍යවේ ද?
1. Li^+ හි ධ්‍රැවීකරණ බලය Na^+ හි ධ්‍රැවීකරණ බලයට වඩා විශාල වේ.
 2. Cl^- හි ධ්‍රැවණශීලීතාවය F^- හි ධ්‍රැවණශීලීතාවයට වඩා කුඩා වේ.
 3. කැටායනයේ අරය කුඩාවත්ම ධ්‍රැවීකරණ බලය විශාල වේ.
 4. ඇනායනයේ අරය විශාලවත්ම ධ්‍රැවණශීලීතාවය වැඩිවේ.
 5. NaF හි අයනික ගුණය NaCl හි අයනික ගුණයට වඩා වැඩිවේ

22. පහත කුමන පරමාණුව ඉලෙක්ට්‍රෝනයක් ලබා ගැනීමේ දී වැඩිම ශක්තියක් මුදාහරියිද?
1. Li
 2. Na
 3. F
 4. Cl
 5. N

23. 298K දී $\text{C}-\text{C}$, $\text{C}-\text{H}$ හා $\text{H}-\text{H}$ හි සම්මත මධ්‍යන්‍ය බන්ධන විඝටන එන්තැල්පි අගයන් පිළිවෙලින් $+348 \text{ kJmol}^{-1}$, $+412 \text{ kJmol}^{-1}$ හා $+436 \text{ kJmol}^{-1}$ වේ. $\text{C}(s, \text{graphite})$ හි සම්මත උෂ්ණත්ව පාතන එන්තැල්පිය $+790 \text{ kJmol}^{-1}$ ද නම්, $\text{C}_2\text{H}_6(g)$ සම්මත උත්පාදන එන්තැල්පිය kJmol^{-1} වලින් වනුයේ,
1. -14
 2. +14
 3. +68
 4. -68
 5. +82

24. පහත කුමන ප්‍රකාශය සත්‍ය වේද?
1. d - ගොනුවේ මූලද්‍රව්‍ය කිසිවක් කාමර උෂ්ණත්වයේ දී ද්‍රව ලෙස නොපවතී.
 2. p - ගොනුවේ මූලද්‍රව්‍ය කිසිවක් කාමර උෂ්ණත්වයේ දී ද්‍රව ලෙස නොපවතී.
 3. p - ගොනුවේ ද්‍රව පරමාණුක ලෙස පවතින කාමර උෂ්ණත්වයේ වායුමය තත්වයේ ඇති මූල ද්‍රව්‍ය සංඛ්‍යාව 4 කි.
 4. පළමු කාණ්ඩයේ මූලද්‍රව්‍ය සාදන බයිකාබනේට් සියල්ල ඝන තත්වයේ පවතී.
 5. දෙවන කාණ්ඩයේ මූල ද්‍රව්‍ය සාදන බයිකාබනේට් වල ජලීය ද්‍රාවණ තාපය හමුවේ ඒවායේ ඔක්සයිඩ් බවට පත්වේ.

25. පරිමාව $V \text{ dm}^3$ වන භාජනයක් තුළ $C_2H_4(g)$ 0.60 g ක් පවතී. එම පරිමාවම ඇති තවත් භාජනයක් තුළ එම උෂ්ණත්වයේ ම M නම් වායුවකින් 1.52 g ක් අඩංගු වේ. M විය හැක්කේ, (C_2H_4 හා M වායු පරිපූර්ණ ලෙස හැසිරේ යැයි සලකන්න. ($C = 12, H = 1$))

1. O_2 2. Cl_2 3. CH_4 4. CO_2 5. SO_2

26. $X + Y \rightarrow Z$ යන ප්‍රතික්‍රියාවේ සම්මත එන්තැල්පි විපර්යාසය $+30 \text{ kJ mol}^{-1}$ ද, සම්මත එන්ට්‍රොපි විපර්යාසය $+60 \text{ J mol}^{-1}K^{-1}$ ද වේ. මේ ප්‍රතික්‍රියාව,

1. සියලු උෂ්ණත්වවල දී ස්වයං සිද්ධ වේ.
2. සියලු උෂ්ණත්වවල දී ස්වයංසිද්ධ නොවේ.
3. $500K$ ට ඉහළ උෂ්ණත්වවල දී ස්වයංසිද්ධ වේ.
4. $500 K$ ට පහළ උෂ්ණත්වවල දී ස්වයංසිද්ධ නොවේ.
5. ඉහත ප්‍රතික්‍රියාව කුමක්ද යන්න නොදන්නා නිසා කිසිදු අනාවැකියක් ප්‍රකාශ කල නොහැක.

27. N^+O_2, NO_3^-, NO_2^- හා N^+H_4 යන ප්‍රභේදවල නයිට්‍රජන්හි විද්‍යුත් ඍණතාව ආරෝහණය වන පිළිවෙල නිවැරදිව දක්වා ඇත්තේ,

- | | |
|--|--|
| 1. $NO_3^- < NH_4^+ < NO_2^- < NO_2^+$ | 2. $NH_4^+ < NO_2^- < NO_3^- < NO_2^+$ |
| 3. $NO_3^- < NO_2^- < NO_2^+ < NH_4^+$ | 4. $NO_2^+ < NO_3^- < NO_2^- < NH_4^+$ |
| 5. $NO_2^- < NO_3^- < NH_4^+ < NO_2^+$ | |

28. $0.1 \text{ mol dm}^{-3} Na_2CO_3$ ද්‍රාවණයකින් 250 cm^3 ක් සාදාගැනීම සඳහා ගත යුතු $Na_2CO_3 \cdot 10 H_2O$ ස්කන්ධය වනුයේ, ($Na = 23, C = 12, O = 16, H = 1$)

1. 7.15 g 2. 71.5 g 3. 2.65 g 4. 26.5 g 5. 2.86 g

29. $0.05 \text{ mol dm}^{-3} NaOH$ ද්‍රාවණයකින් 25 cm^3 ක් සම්පූර්ණයෙන්ම උදාසීනීකරණයට සාන්ද්‍රණය නොදන්නා H_2SO_4 අම්ල ද්‍රාවණයකින් 30 cm^3 ක් අවශ්‍ය විය. H_2SO_4 අම්ල ද්‍රාවණයේ සාන්ද්‍රණය mol dm^{-3} වලින් වනුයේ,

- | | | |
|--------------------------|--------------------------|--------------------------|
| 1. 9.34×10^{-2} | 2. 4.17×10^{-2} | 3. 4.17×10^{-1} |
| 4. 2.08×10^{-2} | 5. 2.08×10^{-1} | |

30. 300 K දී X නම් පරිපූර්ණ වායුවේ වර්ග මධ්‍යන්‍ය මූල වේගය $V_1 \text{ ms}^{-1}$ වේ. X වායුවේ වර්ගමධ්‍යන්‍ය මූල වේගය දෙගුණයක් වන උෂ්ණත්වය වනුයේ,

1. 600 K 2. $927^\circ C$ 3. $1200^\circ C$ 4. 1473 K 5. 927 K

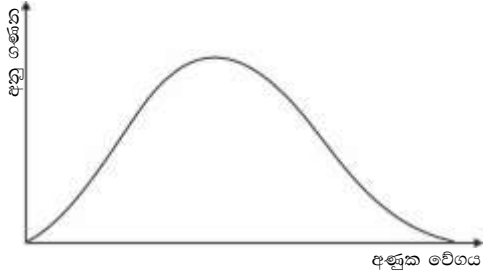
• අංක 31 සිට 40 තෙක් එක් එක් ප්‍රශ්නය සඳහා දී ඇති (a), (b), (c) සහ (d) යන ප්‍රතිචාර හතර අතුරින් එකක් හෝ වැඩි සංඛ්‍යාවක් හෝ නිවැරදිය. නිවැරදි ප්‍රතිචාරය / ප්‍රතිචාර කවරේ දැයි තෝරා ගන්න.

- (a) සහ (b) පමණක් නිවැරදි නම් (1) මත ද
- (b) සහ (c) පමණක් නිවැරදි නම් (2) මත ද
- (c) සහ (d) පමණක් නිවැරදි නම් (3) මත ද
- (a) සහ (d) පමණක් නිවැරදි නම් (4) මත ද

වෙනත් ප්‍රතිචාර සංඛ්‍යාවක් හෝ සංයෝජනයක් හෝ නිවැරදි නම් (5) මත ද උත්තර පත්‍රයෙහි දැක්වෙන උපදෙස් පරිදි ලකුණු කරන්න.

ඉහත උපදෙස් සම්පිණ්ඩනය

1	2	3	4	5
(a) සහ (b) පමණක් නිවැරදියි	(b) සහ (c) පමණක් නිවැරදියි	(c) සහ (d) පමණක් නිවැරදියි	(d) සහ (a) පමණක් නිවැරදියි	වෙනත් ප්‍රතිචාර සංඛ්‍යාවක් හෝ සංයෝජනයක් හෝ නිවැරදියි

31. පරිපූර්ණ වායු සම්බන්ධයෙන් පහත කුමන ප්‍රකාශය / ප්‍රකාශ සත්‍ය වේද?
- නියත උෂ්ණත්වය හා නියත පීඩනයේ දී වායුවේ පරිමාව වායු මවුල ගණනට සමානුපාතික වේ.
 - නියත උෂ්ණත්වයේ දී දෙන ලද වායුවක ඝනත්වය පීඩනයට සමානුපාතික වේ.
 - වායුව කුමක් වුව ද එකම උෂ්ණත්වයේ දී සෑම වායුවක් සඳහාම වර්ග මධ්‍යන්‍ය මූල වේගය එකම අගයක් ගනී.
 - උෂ්ණත්වය නියත විට වායුවක මධ්‍යන්‍ය වේගය නියත අගයක් ගනී.
32. පහත කුමන වගන්තිය / වගන්ති අසත්‍යවේද?
- එන්තැල්පිය තාප ගතික ගුණයක් වන අතර අවස්ථාවේ ශ්‍රිතයකි.
 - අවස්ථා ශ්‍රිතයක සිදුවන වෙනස්වීමේ ප්‍රමාණය එහි ආරම්භක අවස්ථාව, අවසාන අවස්ථාව හා එය සිදුවන මාර්ගය මත රඳා පවතී.
 - පද්ධතියක එන්ට්‍රොපිය පද්ධතියේ අහඹුතාව පිළිබඳ මිනුමකි.
 - නියත එන්ට්‍රොපි පද්ධතියක ($\Delta S = 0$) ස්වයංසිද්ධතාව ΔH මගින් තීරණය කරයි.
33. S ගොනුවේ මූල ද්‍රව්‍යය ජලය සමඟ සිදු කරන ප්‍රතික්‍රියා සම්බන්ධයෙන් පහත කුමන ප්‍රකාශය / ප්‍රකාශ සත්‍ය වේද?
- Mg සිසිල් ජලය සමඟ ප්‍රතික්‍රියා කර H_2 වායුව මුදා හරියි.
 - Be උණු ජලය සමඟ ප්‍රතික්‍රියා කර H_2 වායුව මුදා හරියි.
 - Li සිසිල් ජලය සමඟ ප්‍රතික්‍රියා කර H_2 වායුව මුදා හරියි.
 - K සිසිල් ජලය සමඟ ඉතා වේගයෙන් ප්‍රතික්‍රියා කර H_2 වායුව මුදාහරියි.
34. යම් උෂ්ණත්වයක දී වායුවක ඇති අණුවල වේගය ව්‍යාප්ත වී ඇති අන්දම වක්‍රයෙන් පෙන්වයි. උෂ්ණත්වය අඩු කළහොත්,
- වක්‍රය යට වර්ගඵලය වෙනස් නොවේ.
 - ප්‍රස්ථාරයේ උපරිමය අඩු වේ.
 - ප්‍රස්ථාරයේ උපරිමය දකුණට ගමන් කරයි.
 - යම් දෙන ලද වේගයකට වඩා ඉහළ වේගයක් ඇති අණු ගණන අඩුවේ.
- 
35. X නම් වූ සුදු පැහැති ඝන සංයෝගය ජලයේ හොඳින් දියවේ. X හි ජලීය ද්‍රාවණයට $BaCl_2$ ජලීය ද්‍රාවණයක් එක් කල විට සුදු පැහැ අවක්ෂේපයක් ලැබේ. X විය හැක්කේ,
- $NaOH$
 - Na_2CO_3
 - K_2SO_4
 - KBr
36. පහත කවර යුගලයෙහි / යුගලවල ඉලෙක්ට්‍රෝන යුගල ජ්‍යාමිතිය සමානවේ ද?
- CH_4, NH_3, H_2S
 - BCl_3, NH_3, PCl_3
 - PCl_3, NH_3, CO_2
 - $BeCl_2, HCN, CO_2$
37. පහත ගුණ අතරින් විත්ති ගුණ වන්නේ,
- මවුලික පරිමාව
 - ඝනත්වය
 - පරිමාව
 - තාප ධාරිතාව

38. පහත කුමන අවස්ථාවේ දී එන්ට්‍රොපිය වැඩිවන්නේ ද?

- (a) $CaCO_3(s) \rightarrow CaO(s) + CO_2(g)$
- (b) $N_2(g) + 3H_2(g) \rightarrow 2NH_3(g)$
- (c) $Li_2CO_3(s) \rightarrow Li_2O(s) + CO_2(g)$
- (d) $Na_2CO_3(s) + 2HCl(aq) \rightarrow 2NaCl(aq) + CO_2(g) + H_2O(l)$

39. ඉතා තනුක ජලීය ද්‍රාවණයක සාන්ද්‍රණය ppm වලින් ප්‍රකාශ කළ විට එය,

- (a) $mL L^{-1}$ (b) $mg kg^{-1}$ (c) $\mu L L^{-1}$ (d) $\mu g kg^{-1}$

40. KCl ජලීය ද්‍රාවණයක් තුළ අඩංගු විය හැකි අන්තර් අණුක බන්ධන වනුයේ,

- (a) H බන්ධන (b) ද්විධ්‍රැව - ද්විධ්‍රැව ආකර්ශණවල
- (c) අයනික බන්ධන (d) අයන - ස්ථිර ද්විධ්‍රැව ආකර්ශන බල

• අංක 41 සිට 50 තෙක් එක් ප්‍රශ්නයක් සඳහා ප්‍රකාශ දෙකක් ඉදිරිපත් කර ඇත. එම ප්‍රකාශ යුගලම හොඳින්ම ගැලපෙනුයේ පහත දැක්වෙන පරිදි (1), (2), (3), (4) සහ (5) යන ප්‍රතිචාර වලින් කවර ප්‍රතිචාරය දැයි තෝරා උත්තර පත්‍රයේ උචිත ලෙස ලකුණු කරන්න.

ප්‍රතිචාරය	පළමුවැනි ප්‍රකාශය	දෙවැනි ප්‍රකාශය
1	සත්‍යය	සත්‍ය වන අතර පළමු ප්‍රකාශය නිවැරදිව පහදා දෙයි
2	සත්‍යය	සත්‍ය වන අතර පළමු ප්‍රකාශය නිවැරදිව පහදා නොදේ
3	සත්‍යය	අසත්‍යය
4	අසත්‍යය	සත්‍යය
5	අසත්‍යය	අසත්‍යය

	පළමු ප්‍රකාශය	දෙවැනි ප්‍රකාශය
41.	Na හි දෙවන අයනීකරණ ශක්තිය > Mg හි දෙවන අයනීකරණ ශක්තිය වේ.	Na ⁺ හි න්‍යෂ්ටික ආරෝපණය > Mg හි න්‍යෂ්ටික ආරෝපණය වේ.
42.	බෝර් වාදය මගින් විද්‍රැව්‍යම ඉලෙක්ට්‍රෝනයක් ඇති සියලු මූලද්‍රව්‍යයන්ගේ විමෝචන වර්ණාවලි පැහැදිලි කල හැක.	බෝර් වාදය අනුව පරමාණුවක න්‍යෂ්ටිය වටා ඉලෙක්ට්‍රෝනවලට ගමන් කළ හැකි නිශ්චිත ශක්ති මට්ටම් පවතී.
43.	NH ₃ , PH ₃ , AsH ₃ හා SbH ₃ යන ඒවා අතුරින් අවම තාපාංකය PH ₃ පෙන්වයි.	NH ₃ හි සාපේක්ෂ අණුක ස්කන්ධය PH ₃ හි සාපේක්ෂ අණුක ස්කන්ධයට වඩා අඩුය.
44.	පීඩනය අඩු කරගෙන යාමේ දී ඕනෑම තාත්වික වායුවක සම්පීඩ්‍යතා සාධකය ශුන්‍ය කරා එළඹේ.	පීඩනය අඩුකරගෙන යාමේ දී වායු අණු අතර අන්තර් අණුක ආකර්ශණ බල දුබල වේ.
45.	යම් උෂ්ණත්වයක දී H ₂ වායුවේ වර්ග මධ්‍යන්‍ය මූල වේගය He වායුවේ වර්ග මධ්‍යන්‍ය මූල වේගයට වඩා වැඩිවේ.	H ₂ වායුවේ මවුලික ස්කන්ධය He වායුවේ මවුලික ස්කන්ධයට වඩා අඩුය.
46.	කෂාර ලෝහවල පරමාණුක ක්‍රමාංකය වැඩිවත්ම ඒවායේ ද්‍රවාංක වැඩිවේ.	කාණ්ඩයක් ඔස්සේ පහළටයත්ම පරමාණුක අරය වැඩිවේ.
47.	සම්මත තත්ත්ව යටතේ දී සංයෝගයක එන්තැල්පිය එහි සම්මත උත්පාදන එන්තැල්පියට සමාන වේ.	සම්මත තත්ත්ව යටතේ දී මූලද්‍රව්‍යයන්ගේ ස්ථායීතම ආකාරවල එන්තැල්පිය ශුන්‍ය වේ.
48.	දියමන්ති විද්‍යුතය සන්නයනය නොකරන නමුදු, මිනිරන් විද්‍යුතය සන්නයනය කරයි.	දියමන්ති වල විස්ථාන ගත ඉලෙක්ට්‍රෝන පවතී.
49.	Al මෙන්ම Al ₂ O ₃ ද උභයගුණී ලක්ෂණ පෙන්වයි.	Al මෙන්ම Al ₂ O ₃ ද අමීල සමග මෙන්ම හස්ම සමග ද ප්‍රතික්‍රියා කරයි.
50.	ඔක්සිකරණයක් සිදුවන සෑමවිටකම එයට සමගාමීව ඔක්සිහරණයක් ද සිදුවේ.	ඔක්සිකරණයේ දී ඉලෙක්ට්‍රෝන ලබා ගන්නා අතර, ඔක්සිහරණයේ දී ඉලෙක්ට්‍රෝන ඉවත් කරයි.

අවර්තිත වගුව
ஆவர்த்தன அட்டவணை
Periodic Table

1	1																	2
	H																	He
2	3	4										5	6	7	8	9	10	
	Li	Be										B	C	N	O	F	Ne	
3	11	12										13	14	15	16	17	18	
	Na	Mg										Al	Si	P	S	Cl	Ar	
4	19	20	21	22	23	24	25	26	27	28	29	30	31	32	33	34	35	36
	K	Ca	Sc	Ti	V	Cr	Mn	Fe	Co	Ni	Cu	Zn	Ga	Ge	As	Se	Br	Kr
5	37	38	39	40	41	42	43	44	45	46	47	48	49	50	51	52	53	54
	Rb	Sr	Y	Zr	Nb	Mo	Tc	Ru	Rh	Pd	Ag	Cd	In	Sn	Sb	Te	I	Xe
6	55	56	La-	72	73	74	75	76	77	78	79	80	81	82	83	84	85	86
	Cs	Ba	Lu	Hf	Ta	W	Re	Os	Ir	Pt	Au	Hg	Tl	Pb	Bi	Po	At	Rn
7	87	88	Ac-	104	105	106	107	108	109	110	111	112	113					
	Fr	Ra	Lr	Rf	Db	Sg	Bh	Hs	Mt	Uun	Uuu	Uub	Uut					

57	58	59	60	61	62	63	64	65	66	67	68	69	70	71
La	Ce	Pr	Nd	Pm	Sm	Eu	Gd	Tb	Dy	Ho	Er	Tm	Yb	Lu
89	90	91	92	93	94	95	96	97	98	99	100	101	102	103
Ac	Th	Pa	U	Np	Pu	Am	Cm	Bk	Cf	Es	Fm	Md	No	Lr



Provincial Department of Education - NWP
 Provincial Department of Education - NWP
 Provincial Department of Education - NWP
 Provincial Department of Education - NWP
 Provincial Department of Education - NWP
 Provincial Department of Education - NWP
 Provincial Department of Education - NWP
 Provincial Department of Education - NWP
 Provincial Department of Education - NWP
 Provincial Department of Education - NWP

දෙවන අධ්‍යාපන දෙපාර්තමේන්තුව
Provincial Department of Education - NWP

02 S II

දෙවන වාර පරීක්ෂණය - 12 ශ්‍රේණිය - 2018
Second Term Test - Grade 12 - 2018

විභාග අංකය රසායන විද්‍යාව II කාලය පැය තුනයි

- * ආවර්තිතා වගුවක් අවසාන පිටුවෙහි සපයා ඇත.
- * ගණක යන්ත්‍ර භාවිතයට ඉඩ දෙනු නොලැබේ.
- * සාර්වත්‍ර වායු නියතය, $R = 8.314 \text{ J K}^{-1} \text{ mol}^{-1}$
- * ඇවගාඩරෝ නියතය, $N_A = 6.022 \times 10^{23} \text{ mol}^{-1}$

A කොටස - විද්‍යුත්ගත රචනා

- * සියලු ම ප්‍රශ්නවලට මෙම ප්‍රශ්න පත්‍රයේ ම පිළිතුරු සපයන්න.
- * ඔබේ පිළිතුරු එක් එක් ප්‍රශ්නයට ඉඩ සලසා ඇති කැන්වල ලිවිය යුතු ය. මේ ඉඩ ප්‍රමාණය පිළිතුරු ලිවීමට ප්‍රමාණවත් බව ද දීර්ඝ පිළිතුරු බලාපොරොත්තු නො වන බව ද සලකන්න.

B කොටස සහ C කොටස - රචනා

- * එක් එක් කොටසින් ප්‍රශ්න දෙක බැගින් තෝරා ගනිමින් ප්‍රශ්න හතරකට පිළිතුරු සපයන්න. මේ සඳහා සපයනු ලබන කඩදාසි භාවිත කරන්න.
- * යම්පුර්ණ ප්‍රශ්න පත්‍රයට නියමිත කාලය අවසන් වූ පසු A, B සහ C කොටස්වලට පිළිතුරු, A කොටස මුලින් කිසිදු පරිදි එක් පිළිතුරු පත්‍රයක් වන සේ අමුණා විභාග ශාලාවට භාර දෙන්න.
- * ප්‍රශ්න පත්‍රයෙහි B සහ C කොටස් පමණක් විභාග ශාලාවෙන් පිටතට ගෙන යා හැකි ය.

රචනාකට්ඨයේ ප්‍රශ්නප්‍රශ්න සඳහා පමණි

කොටස	ප්‍රශ්න අංකය	ලකුණු ලකුණු
A	1	
	2	
	3	
	4	
B	5	
	6	
	7	
C	8	
	9	
	10	
එකතුව		
ප්‍රතිශතය		

අධ්‍යයන ලකුණු	
ඉලක්කමෙන්	
අකුරින්	
සංකේත අංක	
උත්තර පත්‍ර පරීක්ෂක 1	
උත්තර පත්‍ර පරීක්ෂක 2	
පරීක්ෂා කළේ :	
අධීක්ෂණය කළේ :	

[ලදවාහි පිටුව බලන්න.

A කොටස - ව්‍යුහගත රචනා

(01) a. වරහන් තුළ දී ඇති ගුණය අඩුවන පිළිවෙලට පහත සඳහන් දෑ සකස් කරන්න.

i. C , N , O , P , Si (පළමු අයනීකරණ ශක්තිය)

.....>>>>

ii. NaCl , MgCl₂ , AlCl₃ (ද්‍රාව්‍යතාවය)

.....>>

iii. H₂O₂ , O₂ , O₃ (O - O බන්ධන දිග)

.....>>

iv. Si , F , S , Cl (පරමාණුක අරය)

.....>>>

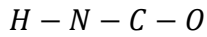
v. HClO₂ , HClO₄ , HClO₃ , HOCl (Cl පරමාණුවේ විද්‍යුත් සෘණතාවය)

.....>>>

vi. N₂O , N₂O₃ , NO₂ (සම්ප්‍රයුක්ත ව්‍යුහ සංඛ්‍යාව)

.....>>

(b) පහත දී ඇති (i) සිට (v) කොටස් (අයිසොසයනික් අම්ලය) HNCO මත පදනම් වේ. එහි සැකිල්ල පහත දී ඇත.



(i) මෙම අණුව සඳහා වඩාත්ම පිළිගත හැකි ලුවිස් ව්‍යුහය අඳින්න.

(ii) මෙම අණුව සඳහා සම්ප්‍රයුක්ත ව්‍යුහ අඳින්න. හේතු දක්වමින් ඒවායේ ස්ථායීතා පිළිබඳ අදහස් දක්වන්න.

(iii) පහත දී ඇති වගුවෙහි දක්වා ඇති,

- i. පරමාණු වටා ඇති ඉලෙක්ට්‍රෝන යුගල ජ්‍යාමිතිය
- ii. පරමාණු වටා ඇති හැඩය
- iii. පරමාණුවල මුහුම්කරණය

		<i>N</i> පරමාණුව	<i>C</i> පරමාණුව
i	ඉලෙක්ට්‍රෝන යුගල ජ්‍යාමිතිය		
ii	හැඩය		
iii	මුහුම්කරණය		

(iv) ඉහත (i) කොටසෙහි අදින ලද ලුවිස් ව්‍යුහයෙහි පහත දක්වා ඇති σ බන්ධන සෑදීම සඳහා සහභාගිවන පරමාණුක / මුහුම්කාක්ෂික හඳුන්වන්න.

- i. H සහ N : H : N :
- ii. N සහ C : N : C :

(iii) ආසන්න බන්ධන කෝණ දක්වමින් ඉහත (i) කොටසෙහි අදින ලද ලුවිස් ව්‍යුහයේ දළ සටහනක් අදින්න.

(c) පහත දැක්වෙන වගුවෙහි ඇති එක් එක් අයනයේ / අණුවේ ද්විතියික අන්තර් ක්‍රියාවන් ඇත්නම් එහි ආකාරය, වගුවෙහි දක්වන්න.

අණුව / අයනය	ද්විතියික අන්තර් ක්‍රියාව / අන්තර් ක්‍රියාවන්
$NaCl$ (aq)	
HF (aq)	
I_3^- (aq)	
CO_2 (g)	
CCl_4 (l)	

(02) (a) (I) $NaCl$ 20 mg ජලය 250g සමග මිශ්‍ර කර ද්‍රාවණයක් සාදා ඇත. ($Na = 23, Cl = 35.5$)

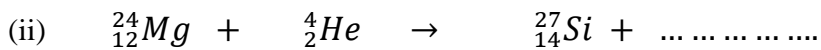
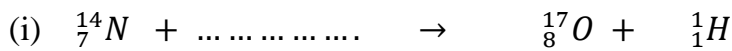
(i) ද්‍රාවණයේ මවුලීයතාවය ගණනය කරන්න.

.....

(ii) ද්‍රාවණයේ සාන්ද්‍රණය ppm වලින් සොයන්න.

.....

(II) පහත න්‍යෂ්ටික ප්‍රතික්‍රියා තුලනය කරන්න.



(b)(I) එක්තරා කාබනික සංයෝගයක C, K සහ ඔක්සිජන් පමණක් අඩංගු වේ. මෙම සංයෝගයේ ස්කන්ධය අනුව 14.46% ක් C ද 46.99% ක් K ද, 38.55% ක් O ද, අඩංගු වේ. සංයෝගයේ සාපේක්ෂ අණුක ස්කන්ධය 165 ක් පමණ වේ. ($C = 12, K = 39, O = 16$)

(i) සංයෝගයේ අණුක සූත්‍රය සොයන්න.

.....

(ii) සංයෝගයේ අඩංගු ඇනායනය වන්නේ,

.....

(ii) ඇනායනයේ ලුපිස් ව්‍යුහය අදින්න.

(II) *S* ගොනුවේ මූල ද්‍රව්‍යයක් වන *Y* වාතයේ රත් කළ විට *A* හා *B* යන සුදු පැහැ ඝන සංයෝග 2 ක් සාදයි. *A* සංයෝගය ජලය සමඟ ප්‍රතික්‍රියා කර *C* ද්‍රාවණය සහ අවරණ *D* වායුව ලබා දෙයි. *D* වායුව නෙස්ලර් ප්‍රතිකාරය දැමූරු පැහැගන්වයි. *C* ද්‍රාවණය තුලින් CO_2 වායුව බුබුලනය කළ විට *E* සුදු පැහැ අවක්ෂේපය ලැබේ. තවදුරටත් CO_2 වායුව බුබුලනයේ දී අවරණ ද්‍රවණයක් ලැබේ.

E අවක්ෂේපය $900^0 C$ ට රත් කිරීමේ දී *B* සුදු ඝනය සහ *G* වායුව ලබා දෙයි.

E සුදු ඝනය පහන්සිළු පරීක්ෂාවට භාජනය කරීමේ දී ගඩොල් රතු පැහැයක් ගෙන දුනි.

i. *A* සිට *G* දක්වා වූ ප්‍රභේද හඳුන්වන්න.

A *D*

B *E*

C *G*

ii. පහත ප්‍රතික්‍රියා සඳහා තුලිත රසායනික සමීකරණ ලියන්න.

1. *Y* සහ N_2 අතර

.....

2. *A* සහ H_2O අතර

.....


(03) (a) (I) වායුවක සම්පීඩ්‍යතා සාධකය (*Z*) අර්ථ දක්වන්න.

.....

.....

.....

ii. පීඩනයට එදිරිව සම්පීඩනය සාධකයහි විචලනය $NH_3(g)$, $He(g)$ සහ පරිපූර්ණ වායුවක් සඳහා පහත දී ඇති ප්‍රස්ථාරයේ ඇඳ ඒවා නම් කරන්න.



iii. අණුක වාලක සමීකරණය සහ පරිපූර්ණ වායු සමීකරණය භාවිතයෙන් $\overline{C^2} = \frac{3RT}{M}$ බව පෙන්වන්න. මෙහි M යනු වායුවේ මවුලික ස්කන්ධය යි.

.....

.....

.....

.....

.....

.....

.....

.....

.....

.....

iv. Y මූල ද්‍රව්‍යය කාමර උෂ්ණත්වයේ දී ත්‍රිපරමාණුක වායුවක් වශයෙන් පවතී. $227^0 C$ දී එහි වර්ග මධ්‍යන්‍ය මූල වේගය $500 ms^{-1}$ වේ. Y හි සාපේක්ෂ පරමාණුක ස්කන්ධය කොපමණද?

.....

.....

.....

.....

.....

(b) සමමත උෂ්ණත්වය හා පීඩනයේ දී එක්තරා වායු මිශ්‍රණයක 11.2 dm^3 පරිමාවක $\text{C}_2\text{H}_6 (g)$ සහ $\text{C}_3\text{H}_8 (g)$ වායුන් දෙක අඩංගු වේ. මෙම වායු මිශ්‍රණය සම්පූර්ණයෙන්ම දහනයේ දී 950 kJ ශක්තියක් මුදාහරියි.

$\text{C}_2\text{H}_6 (g)$ සහ $\text{C}_3\text{H}_8 (g)$ වායුන් හි සමමත දහන එන්තැල්පින් පිලිවෙලින් -1560 kJmol^{-1} සහ -2240 kJmol^{-1} වේ. මිශ්‍රණයේ $\text{C}_3\text{H}_8 (g)$ හි ස්කන්ධ ප්‍රතිශතය සොයන්න. ($C = 12, H = 1$)

.....

.....

.....

.....

.....

.....

.....

.....

.....

.....

.....

.....

.....

.....

.....

.....

.....

.....

.....

.....

.....

.....

(04) (a) I. Cr_2O_3 යනු Cr වලින් සෑදෙන උභයගුණී ඔක්සයිඩයකි.

i. Cr_2O_3 වල IUPAC නාමය ලියන්න.

.....

ii. Cr වල ඉහත ඔක්සිකරණ අංකය සහිත සල්ෆේටයේ රසායනික සූත්‍රය ලියන්න.

.....

iii. පහත ප්‍රභේදවලදී Cr හි ඔක්සිකරණ අංකය ලියන්න.

- i. CrO_2Cl_2
- ii. $\text{K}_2\text{Cr}_2\text{O}_7$

iii. භාස්මික මාධ්‍යයේ (NaOH හමුවේ) Cr_2O_3 , H_2O_2 සමඟ ප්‍රතික්‍රියා කර CrO_4^{2-} සහ H_2O සාදයි.

1. ඔක්සිකරණ අර්ධ ප්‍රතික්‍රියාව ලියන්න.

.....

2. ඔක්සිහරණ අර්ධ ප්‍රතික්‍රියාව ලියන්න.

.....

3. තුලිත අයනික ප්‍රතික්‍රියාව ලියන්න.

.....

4. තුලිත රසායනික ප්‍රතික්‍රියාව ලියන්න.

.....

(b) I. $2 \text{NOCl}(g) \rightleftharpoons 2 \text{NO}(g) + \text{Cl}_2(g)$ යන ප්‍රතික්‍රියාව සහ 25°C දී පහත දී ඇති කාපරසායනික දත්ත සලකන්න.

	$\text{NOCl}(g)$	$\text{Cl}_2(g)$	$\text{NO}(g)$
$\Delta H_f^\theta / \text{kJmol}^{-1}$	+ 51.4	0.0	+ 90.0
$\Delta S^\theta / \text{Jmol}^{-1}\text{K}^{-1}$	+ 260.5	+233	+ 210

i. 25°C දී ඉහත ප්‍රතික්‍රියාව සඳහා ΔH^θ ගණනය කරන්න.

.....

.....

.....

.....

ii. 25°C දී ඉහත ප්‍රතික්‍රියාව සඳහා ΔS^θ ගණනය කරන්න.

.....

.....

.....

.....

iii. 25°C දී ඉහත ප්‍රතික්‍රියාව සඳහා ΔG^θ ගණනය කරන්න.

.....

.....

.....

.....

.....

.....

iv. 25°C දී ඉහත ප්‍රතික්‍රියාවේ ස්වයංසිද්ධතාව පිළිබඳව පුරෝකථනය කරන්න.

.....

.....

.....

v. ඉහත ප්‍රතික්‍රියාව ස්වයංසිද්ධවන අවම උෂ්ණත්වය ගණනය කරන්න.

.....

.....

.....

.....

.....

රසායන විද්‍යාව - 2018 - 12 ශ්‍රේණිය (දෙවන වාර පරීක්ෂණය)

B - කොටස - රචනා

• මෙම කොටසින් ප්‍රශ්න දෙකකට පිළිතුරු සපයන්න.

(05) (a) I පහත දැක්වා ඇති සම්මත එන්තැල්පි විපර්යාසයන් සමීකරණ මඟින් දක්වන්න.

- (i) $NH_3(g)$ හි සම්මත උත්පාදන එන්තැල්පිය - 40 kJmol^{-1}
- (ii) $CH_4(g)$ හි සම්මත දහන එන්තැල්පිය - 890 kJmol^{-1}
- (iii) $H - H(g)$ හි සම්මත බන්ධන විඝටන එන්තැල්පිය - $+436 \text{ kJmol}^{-1}$
- (iv) $Mg^{2+}(g)$ හි සම්මත සජලන එන්තැල්පිය - -1890 kJmol^{-1}
- (v) $MgCl_2(s)$ හි සම්මත දැලිස් එන්තැල්පිය - -2502 kJmol^{-1}

II (i) පහත දී ඇති තාපගතික දත්ත භාවිතා කර $C_8H_{18}(l)$ හි සම්මත දහන එන්තැල්පිය ගණනය කරන්න.
මේ සඳහා තාප රසායනික වක්‍රයක් භාවිතා කරන්න.

$$\begin{aligned} \Delta H_f^\theta [C_8H_{18}(l)] &= -210 \text{ kJmol}^{-1} \\ \Delta H_f^\theta [H_2O(l)] &= -286 \text{ kJmol}^{-1} \\ \Delta H_f^\theta [CO_2(g)] &= -394 \text{ kJmol}^{-1} \end{aligned}$$

(iii) ඉහත ක්‍රියාවලියට අදාළ එන්තැල්පි සටහන අදින්න

(b) පහත සඳහන් දත්ත භාවිතා කර $MgCl_2(s)$ හි සම්මත දැලිස් එන්තැල්පිය, බෝන් හේබර් වක්‍රයක් භාවිතයෙන් ගණනය කරන්න.

$$\begin{aligned} \Delta H_f^\theta [MgCl_2(s)] &= -641 \text{ kJmol}^{-1} \\ \Delta H_s^\theta [Mg(s)] &= +150 \text{ kJmol}^{-1} \\ \Delta H_{IE_1}^\theta [Mg(g)] &= +736 \text{ kJmol}^{-1} \\ \Delta H_{IE_2}^\theta [Mg(g)] &= +1450 \text{ kJmol}^{-1} \\ \Delta H_D^\theta [Cl - Cl(g)] &= +242 \text{ kJmol}^{-1} \\ \Delta H_{EA}^\theta [Cl(g)] &= -349 \text{ kJmol}^{-1} \end{aligned}$$

(C) සම්මත තත්ත්ව යටතේ දී $2.0 \text{ moldm}^{-3} HCl$ ද්‍රාවණයකින් 20 cm^3 ක් හා $2.0 \text{ moldm}^{-3} NaOH$ ද්‍රාවණයකින් 10 cm^3 ක් මිශ්‍ර කිරීමෙන් සිදු කළ පරීක්ෂණයක දී ලද පාඨාංක සමූහයක් පහත දැක්වේ

$$\begin{aligned} HCl \text{ ද්‍රාවණයේ ආරම්භක උෂ්ණත්වය} &= 32.0^\circ C \\ NaOH \text{ ද්‍රාවණයේ ආරම්භක උෂ්ණත්වය} &= 32.4^\circ C \\ \text{මිශ්‍රණයේ උපරිම උෂ්ණත්වය} &= 41.2^\circ C \\ \text{ද්‍රාවණයේ විශිෂ්ඨ තාප ධාරිතාව} &= 4.2 \text{ J g}^{-1} \text{ } ^\circ C^{-1} \\ \text{ද්‍රාවණයේ ඝනත්වය} &= 1 \text{ g cm}^{-3} \end{aligned}$$

- (i) $HCl(aq)$ හා $NaOH(aq)$ අතර ප්‍රතික්‍රියාවට අදාළ තුලිත රසායනික සමීකරණය ලියන්න.
- (ii) ඉහත දත්ත භාවිතයෙන් $HCl(aq)$ හා $NaOH(aq)$ අතර ප්‍රතික්‍රියාවේ ප්‍රතික්‍රියා තාපය සොයන්න.
- (iii) ඉහත ප්‍රතික්‍රියාවේ එන්තැල්පි විපර්යාසය සොයන්න.

- (06)(a) (i) ඩෝල්ටන්ගේ ආශික පීඩන නියමය ලියා දක්වන්න.
- (ii) පරිපූර්ණ වායු සමීකරණය මඟින් ඩෝල්ටන්ගේ ආංශික පීඩන නියමය ලබා ගන්න.

(b) පරිමාව 4.157 dm^3 වන දෘඩ භාජනයක් තුළ $X_2 (g)$ වායුව 127°C දී හා $3.2 \times 10^5 \text{ Pa}$ පීඩනයක් යටතේ ඇත. පරිමාව 12.471 dm^3 වන දෘඩ භාජනයක් තුළ $Y_2 (g)$ වායුව 27°C දී $1.2 \times 10^5 \text{ Pa}$ පීඩනයක් යටතේ ඇත. පරිමාව නොගිනිය හැකි නලයකින් මෙම භාජන දෙක සම්බන්ධ කර පද්ධතියේ උෂ්ණත්වය 327°C දක්වා රත් කරන ලදී.

- (i) ආරම්භයේ දී පරිමාව 4.157 dm^3 වන භාජනයේ ඇති $X_2 (g)$ මවුල ගණන.
- (ii) ආරම්භයේ දී පරිමාව 12.471 dm^3 වන භාජනයේ ඇති $Y_2 (g)$ මවුල ගණන.
- (iii) $X_2 (g)$ හා $Y_2 (g)$ එකිනෙක ප්‍රතික්‍රියා නොකරන්නේ නම්,
 1. 327°C ඇති පද්ධතියේ සමස්ත පීඩනය
 2. පද්ධතියේ $X_2 (g)$ හා $Y_2 (g)$ මවුල භාග
 3. පද්ධතිය තුළ $X_2 (g)$ හා $Y_2 (g)$ හි ආංශික පීඩන ගණනය කරන්න.
- (iv) $X_2 (g)$ හා $Y_2 (g)$ පහත ආකාරයට ප්‍රතික්‍රියා වන්නේ නම්,

$$X_2 (g) + 3Y_2 (g) \rightarrow 2XY_3 (g)$$
 1. පද්ධතිය තුළ මුළු පීඩනය
 2. පද්ධතියේ ඇති එක් එක් වායුන්ගේ මවුල භාග
 3. පද්ධතිය තුළ ඇති එක් එක් වායුවේ ආංශික පීඩනයන් ගණනය කරන්න.
- (iv) ඉහත ගණනය කිරීම් වල දී ඔබ යොදා ගත් උපකල්පන ලියන්න.

(07) (a) A නම් සජල ලවණයේ ස්කන්ධය අනුව Cu 25.6% ක් ද, S 12.8% ක් ද, H 4% ක් ද, ඉතිරිය ඔක්සිජන් ද වේ. A හි සාපේක්ෂ අණුක ස්කන්ධය හරියටම 250 කි.

(Cu = 64, S = 32, H = 1, O = 16)

- (i) A හි ආනුභාවික සූත්‍රය සොයන්න.
- (ii) A හි අණුක සූත්‍රය සොයන්න.
- (iii) A හි අඩංගු සියලු H, H_2O ලෙස පවතී නම්, A සජල ලවණය කුමක්ද?
- (iv) A හි නිර්ජල ලවණයේ සූත්‍රය ලියා එහි IUPAC නාමය ලියන්න.
- (v) A හි අඩංගු ඇනයනයහි ලුවීස් ව්‍යුහය අඳින්න.
- (vi) ඉහත (v) කොටසේ ඇනයනයහි හැඩය අපෝහනය කරන්න.

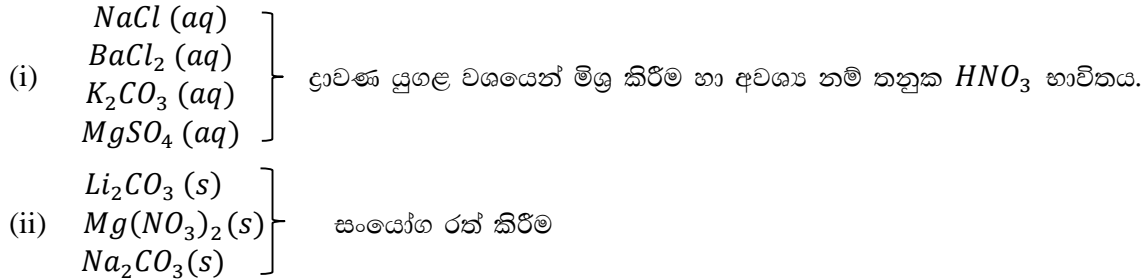
(b) (i) සජල කොබෝල්ට් ක්ලෝරයිඩ්, $CoCl_2 \cdot xH_2O$ ස්ඵටික $14.28g$ ක් ජලයේ දියකර ද්‍රාවණ 1 dm^3 ක් පිළියෙල කරගනී. මෙම ද්‍රාවණයෙන් 100 cm^3 කට වැඩිපුර $Pb(NO_3)_2 (aq)$ ද්‍රාවණයක් එක් කරන ලදී. එහිදී ලැබුණු සුදු පැහැ අවක්ෂේපය පෙරා විසලා ගත්විට එහි ස්කන්ධය $1.668 g$ විය. (Pb = 207, Cl = 35.5, Co = 59, H = 1, O = 16)

- (i) සෑදුණු සුදු පැහැ අවක්ෂේපය කුමක්ද ?
- (ii) $CoCl_2(aq)$ හා $Pb(NO_3)_2 (aq)$ අතර ප්‍රතික්‍රියාවේ තුලිත සමීකරණය සොයන්න.
- (iii) සෑදුණු සුදු පැහැ අවක්ෂේපයේ මවුල ගණන කොපමණද?
- (iv) 100 cm^3 ක ඇති $CoCl_2$ මවුල ගණන කොපමණද?
- (v) 1 dm^3 ක ඇති $CoCl_2$ මවුල ගණන කොපමණද?
- (vi) සජල කොබෝල්ට් ක්ලෝරයිඩ් වල මවුලික ස්කන්ධය කොපමණද?
- (vii) x හි අගය ගණනය කරන්න.

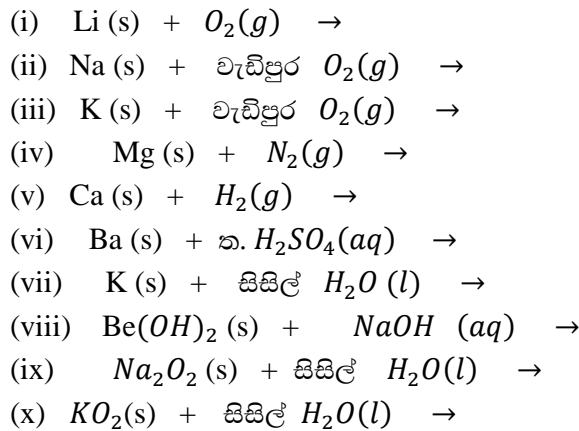
C - කොටස

• මෙම කොටසින් ප්‍රශ්න දෙකකට පිළිතුරු සපයන්න.

(08) (a) ඉදිරියෙන් දී ඇති ක්‍රමය පමණක් උපයෝගී කර ගනිමින් දී ඇති ද්‍රාවණ / සංයෝග එකිනෙකින් වෙන් කර හඳුනා ගන්නා අයුරු දක්වන්න.



(b) පහත දී ඇති ප්‍රතික්‍රියා තුලින් රසායනික සමීකරණ මගින් දක්වන්න.



(c) S ගොනුවේ පළමු කාණ්ඩයේ කැටුයනයක් අඩංගු සංයෝගයක් හඳුනා ගැනීම සඳහා පහත පරීක්ෂා ක්‍රියා පිළිවෙල භාවිතා කරන ලදී.

	පරීක්ෂණය	නිරීක්ෂණය
(1)	සංයෝගය ජලයෙහි දිය කරන ලදී.	පැහැදිලි අවර්ණ ද්‍රාවණයක් ලැබේ.
(2)	(1) හි ලැබුණු ද්‍රාවණයට $BaCl_2$ ද්‍රාවණයක් එක් කරන ලදී.	සුදු පැහැ අවක්ෂේපයක් ලැබිණි.
(3)	(2) හිදී ලැබුණු අවක්ෂේපයට ත. HNO_3 එක් කරන ලදී.	අවක්ෂේපය ත. HNO_3 තුළ අද්‍රව්‍ය විය.
(4)	සංයෝගය පහන්සිළු පරීක්ෂාවට භාජනය කරන ලදී.	ලිලාක් වර්ණය ලැබිණි. (දම් පැහැයක්)

නිරීක්ෂණ හැකිතාක් පහදමින් එම සංයෝගය හඳුනාගන්න.

(09) (a) වායු ගෝලය තුළ SO_2 වායුව පැවතීම අම්ල වැසි වලට බොහෝ සෙයින් බලපායි. වායුගෝලයේ පවතින SO_2 ස්කන්ධය සෙවීමට පහත ක්‍රමය අනුගමනය කරනු ලැබේ.

SO_2 අඩංගු අම්ල වැසි ජල සාම්පලයේ දන්නා පරිමාවක් ($V \text{ cm}^3$) ගෙන ආම්ලික මාධ්‍යයේ MnO_4^- සමඟ අනුමාපනය කරන ලදී. මෙහිදී $SO_2 \rightarrow SO_4^{2-}$ බවට ඔක්සිකරණය වන අතර $MnO_4^- \rightarrow Mn^{2+}$ බවට ඔක්සිහරණය වේ.

අනුමාපනය සඳහා $0.008 \text{ moldm}^{-3} KMnO_4$ ද්‍රාවණ 7.37 cm^3 වැය විය. ($S = 32, O = 16$)

- (i) SO_2 හා MnO_4^- අතර ප්‍රතික්‍රියාවේ තුලිත අයනික සමීකරණය ලියන්න.
- (ii) $V\text{ cm}^3$ පරිමාවේ ඇති SO_2 මවුල ගණන ගණනය කරන්න.
- (v) $V\text{ cm}^3$ තුල ඇති SO_2 ස්කන්ධය කොපමණද?

- (b) පහත දක්වා ඇති විචලනයන් සත්‍ය ද, අසත්‍ය ද යන්න පැහැදිලි කරන්න.
 - i. $NaNO_3, KNO_3, RbNO_3$ වල තාප වියෝජන උෂ්ණත්වය $NaNO_3 < KNO_3 < RbNO_3$ ලෙසට වේ.
 - ii. $SO_2, SO_3^{2-}, SO_4^{2-}$ වලදී S වල විද්‍යුත් සානතාව $SO_2 < SO_3^{2-} < SO_4^{2-}$ ලෙසට වේ.
 - iii. $NaOH, Mg(OH)_2, Al(OH)_3$ හි භාස්මිකතාවය $Al(OH)_3 < Mg(OH)_2 < NaOH$ ලෙසට වේ.
 - iv. $LiF, LiCl, LiBr$ වල ද්‍රවාංකය $LiBr < LiCl < LiF$ ලෙසට වේ.

(c) $Na_2CO_3 \cdot 10H_2O$ 2.86 g ජලයේ දියකර 250 cm^3 දක්වා ජලය දමා තනුක කරන ලදී. එම ද්‍රාවණයෙන් 25 cm^3 ක් ගෙන නැවතත් 250 cm^3 ක් දක්වා ජලය දමා තනුක කරන ලදී. මෙම තනුක ද්‍රාවණයෙන් 25 cm^3 ක් ගෙන 0.001 mol dm^{-3} සමග සම්පූර්ණයෙන්ම ප්‍රතික්‍රියා කරන ලදී. මෙම ප්‍රතික්‍රියාව සඳහා වැයවන 0.001 mol dm^{-3} HCl පරිමාව කොපමණද? ($Na = 23, C = 12, O = 16, H = 1$)

- (10) (a) පහත සංයෝග IUPAC ක්‍රමයට නම් කරන්න.
 - (i) $KClO$ (ii) $KClO_2$ (iii) $KClO_3$
 - (iv) $KClO_4$ (v) NaH_2PO_4 (vi) $NaHSO_4$
 - (vii) H_2SO_4 (viii) H_2SO_3

(b) සනත්වය 1.12 g cm^{-3} වූ ද, සංශුද්ධතාව 36% ක් වූ ද HCl ද්‍රාවණයක HCl හි මවුල භාගය ගණනය කරන්න. ($H = 1, Cl = 35.5$)

(c) සාන්ද්‍රණය නොදන්නා $Ba(OH)_2$ ද්‍රාවණ 25 cm^3 ක් සම්පූර්ණයෙන්ම උදාසීන කිරීමට එක්තරා සාන්ද්‍රණය නොදන්නා HCl ද්‍රාවණ 20 cm^3 ක් වැය විය.

එම HCl ද්‍රාවණයේ 25 cm^3 සම්පූර්ණයෙන්ම උදාසීන කිරීමට 0.05 mol dm^{-3} NaOH ද්‍රාවණ 20 cm^3 ක් අවශ්‍ය විය.

- (i) භාවිතා කළ HCl ද්‍රාවණයේ සාන්ද්‍රණය සොයන්න.
- (ii) ඉහත (i) හි අගය භාවිතා කරමින් $Ba(OH)_2$ ද්‍රාවණයේ සාන්ද්‍රණය සොයන්න.

ආවර්තිතා වගුව
 आवर्तकाल आवलन
 Periodic Table

1																	2																																																												
H																	He																																																												
3	4											5	6	7	8	9	10																																																												
Li	Be											B	C	N	O	F	Ne																																																												
11	12											13	14	15	16	17	18																																																												
Na	Mg											Al	Si	P	S	Cl	Ar																																																												
19	20	21	22	23	24	25	26	27	28	29	30	31	32	33	34	35	36																																																												
K	Ca	Sc	Ti	V	Cr	Mn	Fe	Co	Ni	Cu	Zn	Ga	Ge	As	Se	Br	Kr																																																												
37	38	39	40	41	42	43	44	45	46	47	48	49	50	51	52	53	54																																																												
Rb	Sr	Y	Zr	Nb	Mo	Tc	Ru	Rh	Pd	Ag	Cd	In	Sn	Sb	Te	I	Xe																																																												
55	56	La	72	73	74	75	76	77	78	79	80	81	82	83	84	85	86																																																												
Cs	Ba	Lu	Hf	Ta	W	Re	Os	Ir	Pt	Au	Hg	Tl	Pb	Bi	Po	At	Rn																																																												
87	88	Ac	104	105	106	107	108	109	110	111	112	113																																																																	
Fr	Ra	Lr	Rf	Db	Sg	Bh	Hs	Mt	Uun	Uuu	Uub	Uut																																																																	
<table border="1"> <tr> <td>57</td> <td>58</td> <td>59</td> <td>60</td> <td>61</td> <td>62</td> <td>63</td> <td>64</td> <td>65</td> <td>66</td> <td>67</td> <td>68</td> <td>69</td> <td>70</td> <td>71</td> </tr> <tr> <td>La</td> <td>Ce</td> <td>Pr</td> <td>Nd</td> <td>Pm</td> <td>Sm</td> <td>Eu</td> <td>Gd</td> <td>Tb</td> <td>Dy</td> <td>Ho</td> <td>Er</td> <td>Tm</td> <td>Yb</td> <td>Lu</td> </tr> <tr> <td>89</td> <td>90</td> <td>91</td> <td>92</td> <td>93</td> <td>94</td> <td>95</td> <td>96</td> <td>97</td> <td>98</td> <td>99</td> <td>100</td> <td>101</td> <td>102</td> <td>103</td> </tr> <tr> <td>Ac</td> <td>Th</td> <td>Pa</td> <td>U</td> <td>Np</td> <td>Pu</td> <td>Am</td> <td>Cm</td> <td>Bk</td> <td>Cf</td> <td>Es</td> <td>Fm</td> <td>Md</td> <td>No</td> <td>Lr</td> </tr> </table>																		57	58	59	60	61	62	63	64	65	66	67	68	69	70	71	La	Ce	Pr	Nd	Pm	Sm	Eu	Gd	Tb	Dy	Ho	Er	Tm	Yb	Lu	89	90	91	92	93	94	95	96	97	98	99	100	101	102	103	Ac	Th	Pa	U	Np	Pu	Am	Cm	Bk	Cf	Es	Fm	Md	No	Lr
57	58	59	60	61	62	63	64	65	66	67	68	69	70	71																																																															
La	Ce	Pr	Nd	Pm	Sm	Eu	Gd	Tb	Dy	Ho	Er	Tm	Yb	Lu																																																															
89	90	91	92	93	94	95	96	97	98	99	100	101	102	103																																																															
Ac	Th	Pa	U	Np	Pu	Am	Cm	Bk	Cf	Es	Fm	Md	No	Lr																																																															


වයඹ පළාත් අධ්‍යාපන දෙපාර්තමේන්තුව
දෙවන වාර පරීක්ෂණය - 2018 - 12 ශ්‍රේණිය
රසායන විද්‍යාව I

(1)	(11)	(21)	(31)	(41)
(2)	(12)	(22)	(32)	(42)
(3)	(13)	(23)	(33)	(43)
(4)	(14)	(24)	(34)	(44)
(5)	(15)	(25)	(35)	(45)
(6)	(16)	(26)	(36)	(46)
(7)	(17)	(27)	(37)	(47)
(8)	(18)	(28)	(38)	(48)
(9)	(19)	(29)	(39)	(49)
(10)	(20)	(30)	(40)	(50)

රසායන විද්‍යාව II
A කොටස ව්‍යුහගත කොටස

(ii) $HOCN$ අණුව සඳහා වඩාත් පිළිගත හැකි ලිවිස් ව්‍යුහය පහත දී ඇත. මෙම අණුව සඳහා ඇදිය හැකි වෙනත් ලිවිස් ව්‍යුහ දෙකක් (සම්ප්‍රයුක්තතා ව්‍යුහ) අඳින්න.

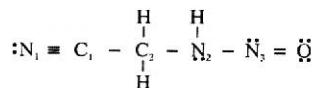
වඩාත් පිළිගත හැකි ලිවිස් ව්‍යුහය: $H - \ddot{O} - C \equiv N:$



(@ . 09 x 2 = 18)

(iii) පහත සඳහන් ලිවිස් ව්‍යුහය පදනම් කරගෙන පහත විගුණිත දක්වා ඇති C_1, C_2, N_2 හා N_3 පරමාණුවල,

- පරමාණුව වටා VSEPR යුගල
- පරමාණුව වටා ඉලෙක්ට්‍රෝන යුගල ජ්‍යාමිතිය
- පරමාණුව වටා හැඩය
- පරමාණුවේ මුහුම්කරණය සඳහන් කරන්න.



		C_1	C_2	N_2	N_3
i	VSEPR යුගල	2	4	4	3
ii	ඉලෙක්ට්‍රෝන යුගල ජ්‍යාමිතිය	රේඛීය	චතුරස්‍රාකාරී	චතුරස්‍රාකාරී	ත්‍රිකෝණාකාරී
iii	හැඩය	රේඛීය	චතුරස්‍රාකාරී	චතුරස්‍රාකාරී	ත්‍රිකෝණාකාරී
iv	මුහුම්කරණය	sp	sp ³	sp ³	sp ²

(@ . 02 x 16 = 32)

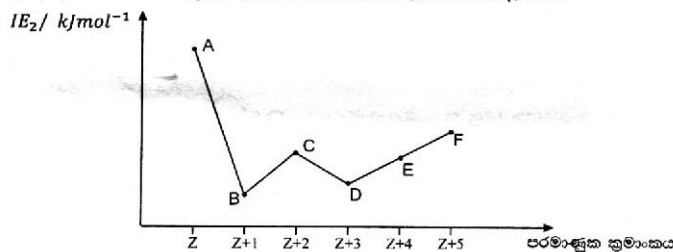
(iv) ඉහත (iii) කොටසෙහි අදින ලද ලිවිස් ව්‍යුහයෙහි පහත සඳහන් σ බන්ධන සෑදීමට සහභාගි වන පරමාණුක / මුහුම් කාණ්ඩ හඳුනා ගන්න.

- $C_1 - C_2$ C_1 sp C_2 sp³
- $N_2 - C_2$ N_2 sp³ C_2 sp³
- $N_3 - O$ N_3 sp² O sp² / 2p

(@ 02 x 6 = 12)

(02) (a) A, B, C, D, E සහ F යනු ආවර්තිතා වගුවේ, එකම ආවර්තයේ පිහිටි අනුයාත මූලද්‍රව්‍ය වේ. ඒවායේ 100 පරමාණුක ක්‍රමාංක පිලිවෙලින් Z, Z+1, Z+2, Z+3, Z+4 සහ Z+5 වේ.

A, B, C, D, E සහ F හි දෙවන අයනීකරණ ශක්ති විචලනය පහත දැක්වේ.

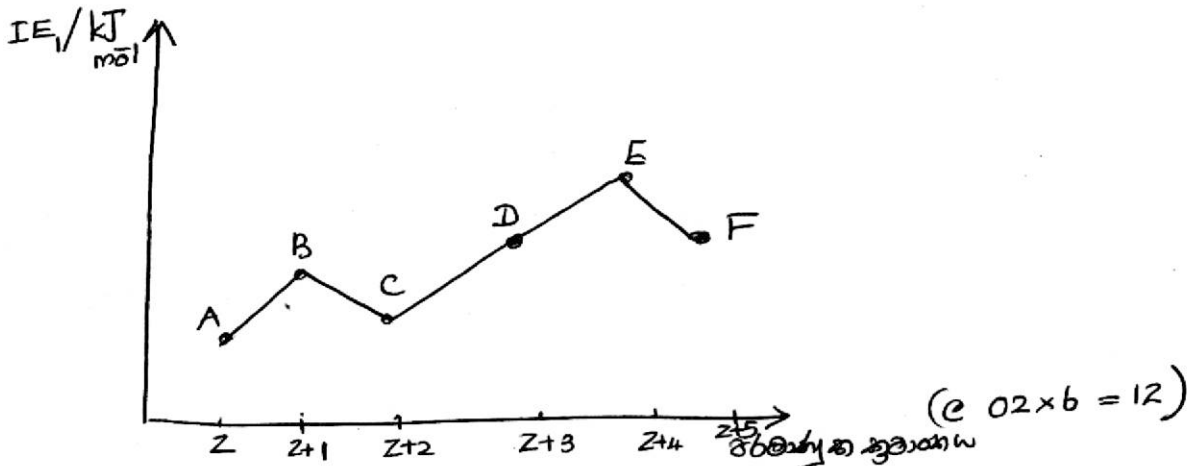


(i) A, B, C, D, E සහ F යන මූලද්‍රව්‍ය අයත් වන කාණ්ඩ හඳුන්වන්න.

- A - 1
- B - 2
- C - 13
- D - 14
- E - 15
- F - 16

(@ 03 x 6 = 18)

(ii) ඉහත මූලද්‍රව්‍යයන්ගේ ප්‍රථම අයනීකරණ ශක්තිය විචලනය දක්වන දළ ප්‍රස්ථාරයක් අඳින්න.



(iii) ඉහත (ii) කොටසදී අඳින ලද ප්‍රස්ථාරයේ ඇති පහත විචලන පැහැදිලි කරන්න.

(a) B හා C හි පළමු අයනීකරණ ශක්ති විචලනයේ වෙනස්වීම
 B හි $IE_1 > C$ හි IE_1 වේ. ✓
 B ද වන කැණ්ඩයේ මූලද්‍රව්‍යයක් වන අතර ඉලෙක්ට්‍රෝන වින්‍යාසය $n s^2$ ආකාර වේ. C ද වන කැණ්ඩයේ මූලද්‍රව්‍යයක් වන අතර, C හි ඉලෙක්ට්‍රෝන වින්‍යාසය $n s^2 n p^1$ ආකාර වේ.
 B හි ඉලෙක්ට්‍රෝන වින්‍යාසය C හි ඉලෙක්ට්‍රෝන වින්‍යාසයට වඩා ඝනීභූත වී ඇත. ∴ B හි $IE_1 > C$ හි IE_1 වේ.
 (e 02 x 6 = 12)

(b) A හි පළමු අයනීකරණ ශක්තිය අනෙක් මූලද්‍රව්‍යවල ප්‍රථම අයනීකරණ ශක්තීන් සමඟ සසඳන්න.
 A හි පළමු (1) කැණ්ඩයේ මූලද්‍රව්‍යයක් වන අතර ඉලෙක්ට්‍රෝන වින්‍යාසය $n s^1$ ආකාර වේ.
 A කැණ්ඩයේ e යන ඉලෙක්ට්‍රෝන ස්ථරයේ පිහිටා ඇති වාලු වින්‍යාසය අඩු වන නිසා අයනීකරණ ශක්තිය ඉහළ වේ.
 ∴ A හි IE_1 ඉහළම වන අයනීකරණ ශක්තිය වේ.
 (e 02 x 4 = 08)

(b)(I) පහත දී ඇති වගුවේ දී ඇති පරමාණුවල / අයනවල ඉලෙක්ට්‍රෝන වින්‍යාසය ලියා, ඒවායේ පවතින විද්‍යුත්ම ඉලෙක්ට්‍රෝන ගණන ලියන්න.

	ප්‍රභේදය	ඉලෙක්ට්‍රෝන වින්‍යාසය	විද්‍යුත්ම ඉලෙක්ට්‍රෝන ගණන
i.	${}_{26}Fe$	$1s^2 2s^2 2p^6 3s^2 3p^6 4s^2 3d^6$	4
ii.	${}_{29}Cu$	$1s^2 2s^2 2p^6 3s^2 3p^6 3d^{10} 4s^1$	1
iii.	Fe^{2+}	$1s^2 2s^2 2p^6 3s^2 3p^6 3d^6$	4
iv.	Cu^{2+}	$1s^2 2s^2 2p^6 3s^2$	1

(e 07 x 4 + 03 x 4) = 40

(II) යම් පරමාණුවක පවතින ඉලෙක්ට්‍රෝනයක් සඳහා පහත දී ඇති ක්වොන්ටම් අංක තුලකය සලකන්න.

$$\{2, 1, 0, +\frac{1}{2}\}$$

i. මෙම ඉලෙක්ට්‍රෝන පවතින ප්‍රධාන ශක්ති මට්ටම වන්නේ, 2

ii. මෙම ඉලෙක්ට්‍රෝනය පවතින උප ශක්ති මට්ටම වන්නේ, P

iii. චුම්භක ක්වොන්ටම් අංකය අර්ථ දක්වන්න.

යම් උප ශක්ති මට්ටමක ඉලෙක්ට්‍රෝනය පවතින කාණ්ඩය
 (P_x, P_y, P_z) මෙමගින් නිරූපණය කෙරේ.

(@ 02x3 = 06)

(III) පරමාණුවක් තුල ක්වොන්ටම් අංක $n = 3$ හා $m_l = -1$ වන සේ තිබිය හැකි උපරිම ඉලෙක්ට්‍රෝන ගණන කොපමණද?

4

(@ 04)

100

(03) (a) (I) සංඛ්‍යාතය 110.90 MHz වන රේඩියෝ තරංග භාවිතයෙන්, ගුවන්තොටුපලට අහස් යානා ගොඩ බැස්සවීම මෙහෙයවයි. ($1 \text{ MHz} = 10^6 \text{ Hz}$)

i. ඉහත රේඩියෝ තරංගයේ තරංග ආයාමය ගණනය කරන්න.

$$\lambda = \frac{c}{\nu} = \frac{3 \times 10^8 \text{ m s}^{-1}}{110.9 \times 10^6 \text{ s}^{-1}}$$

$$= 2.71 \text{ m}$$

(@ 02x4 = 08)

ii. ඉහත රේඩියෝ තරංගයේ ෆෝටෝනයක ශක්තිය ගණනය කරන්න.

$$E = h\nu$$

$$= 6.626 \times 10^{-34} \text{ Js} \times 110.9 \times 10^6 \text{ s}^{-1}$$

$$= 7.35 \times 10^{-26} \text{ J}$$

(@ 02x4 = 8)

iii. ඉහත මෙහෙයුම් ක්‍රියාවලියෙහි සෑම තත්පරයක් සඳහාම 100 W ක බලයක් අවශ්‍ය නම්, තත්පරයක දී අවශ්‍ය වන ෆෝටෝන සංඛ්‍යාව කවරේද? ($1 \text{ W} = 1 \text{ J s}^{-1}$)

$$\left. \begin{array}{l} \text{තත්පරයකදී} \\ \text{ෆෝටෝන ජනනය} \end{array} \right\} = \frac{100 \text{ J s}^{-1}}{7.35 \times 10^{-26} \text{ J}}$$

$$= 1.4 \times 10^{27} \text{ s}^{-1}$$

(@ 03x3 = 09)

(II) (i) වානිජ HCl අම්ල බෝතලයක සන්තති 1.2 g cm⁻³ සහ එහි අඩංගු HCl හි ස්කන්ධ ප්‍රතිශතය (w/w) 36% ක් වේ HCl ද්‍රාවණයේ සාන්ද්‍රණය ගණනය කරන්න.

$$\begin{aligned} \text{ද්‍රවණ } 1 \text{ dm}^3 \text{ හි ස්කන්ධය} &= 1.2 \text{ g cm}^3 \times 1000 \text{ cm}^3 \\ &= 1200 \text{ g} \\ \text{ද්‍රවණ } 1 \text{ dm}^3 \text{ හි HCl ස්කන්ධය} &= 1200 \text{ g} \times \frac{36}{100} \\ \text{ද්‍රවණ } 1 \text{ dm}^3 \text{ හි HCl මවුල ගණන} &= \frac{1200 \text{ g} \times \frac{36}{100}}{36.5 \text{ g.mol}^{-1}} \\ &= 11.84 \text{ mol} \\ \text{ද්‍රවණයේ මවුල/ලය} &= \frac{11.84 \text{ mol}}{1 \text{ dm}^3} = 11.84 \text{ mol dm}^{-3} \quad (\text{e } 02 \times 5 = 10) \end{aligned}$$

(ii) 0.05 mol dm⁻³ HCl ද්‍රාවණ 250 cm³ සාදා ගැනීම සඳහා ගත යුතු ඉහත සාන්ද්‍ර අම්ල පරිමාව ගණනය කරන්න.

$$\begin{aligned} n_{\text{HCl}} &= 0.05 \text{ mol dm}^{-3} \times 250 \times 10^{-3} \text{ dm}^3 \\ &= 0.0125 \text{ mol} \\ V_{\text{HCl}} &= \frac{0.0125 \text{ mol}}{11.84 \text{ mol dm}^{-3}} = 1.06 \times 10^{-3} \text{ dm}^3 \\ &= 1.06 \text{ cm}^3 \quad (\text{e } 03 \times 5 = 15) \end{aligned}$$

(b) (i) ආනුභවික සූත්‍රය යනු කුමක්ද?

සංයෝගයක සංයුතිය හා එහි වන පරිදි වූ ඒ ඒ පරමාණු සංඛ්‍යා අතර සබඳව හර්ලන් සංඛ්‍යා සමඟ අනුපාතය තීරණය කරන පුද්ගලයන් ආනුභවික ප්‍රමුඛය නම් වේ. (e 05)

(ii) එක්තරා කාබනික සංයෝගයක ස්කන්ධය ප්‍රතිශත අනුව C 48.12% ක් ද, H 8.32% , N 21.2% ද ඉතිරිය ඔක්සිජන් ද වේ. සංයෝගයේ ආනුභවික සූත්‍රය ගණනය කරන්න.

(C = 12, H = 1, N = 14, O = 16)

	C	H	N	O	
ස්කන්ධ ප්‍රතිශතය	48.12	8.32	21.2	22.36	(04)
මවුල අනුපාතය	$\frac{48.12}{12}$	$\frac{8.32}{1}$	$\frac{21.2}{14}$	$\frac{22.36}{16}$	(04)
	4.01	8.32	1.51	1.39	(04)
මවුල අනුපාතය	$\frac{4.01}{1.39}$	$\frac{8.32}{1.39}$	$\frac{1.51}{1.39}$	$\frac{1.39}{1.39}$	(04)
	2.86	5.95	1.08	1	(04)
	3	6	1	1	(04)
ආනුභවික ප්‍රමුඛය	C ₃ H ₆ NO				(06)

30

(iii)

ඉහත සංයෝගයේ සාපේක්ෂ අණුක ස්කන්ධය 155ක් පමණ වෙතම්, සංයෝගයේ අණුක සූත්‍රය සොයන්න.

$$(12 \times 3 + 1 \times 6 + 14 + 16)n = 155 \checkmark$$

$$72n = 155 \checkmark$$

$$n \approx 2 \checkmark$$

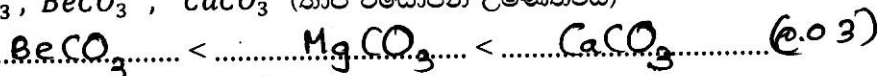


$$(0.3 \times 5 = 15)$$

100

(04) (a) I. වරහන් තුළ ඇති ගුණය ආරෝහණය වන පිළිවෙල දක්වා ඔබේ පිළිතුර පැහැදිලි කරන්න.

i. $MgCO_3$, $BeCO_3$, $CaCO_3$ (කාප විශේෂණ උෂ්ණත්වය)



දැහැනු බව වැඩි වේ ✓

නැවැත්වීමේ වෙනස් වේ ✓

නැවැත්වීමේ ආරෝහණය වැඩි වේ ✓

නැවැත්වීමේ අර්ථය $Be^{2+} < Mg^{2+} < Ca^{2+}$ යොමුවේ ✓


නැවැත්වීමේ සුඛිකරණ බලය $Ca^{2+} < Mg^{2+} < Be^{2+}$ යොමුවේ ✓

සංයෝගයේ අයනික ලබා $BeCO_3 < MgCO_3 < CaCO_3$ යොමුවේ ✓

∴ කාප විශේෂණ උෂ්ණත්වය $BeCO_3 < MgCO_3 < CaCO_3$ යොමුවේ ✓
(0.02 x 6 = 12)

15

ii. Mg^{2+} , Na^+ , Al^{3+} (අයනික අරය)



ඉහත නැවැත්වීම 3 සම මුලෝමයෙහි වේ ✓

නමුත් නැවැත්වීම මුල අර්ථ p ගාත (නැවැත්වීම ආරෝහණය) ✓

$Na^+ < Mg^{2+} < Al^{3+}$ වේ ✓

∴ සම මුල නැවැත්වීම ආරෝහණය $Na^+ < Mg^{2+} < Al^{3+}$ යොමුවේ ✓

∴ අයනික අරය $Al^{3+} < Mg^{2+} < Na^+$ යොමුවේ ✓

$$(0.04 \times 3 = 12)$$

15

iii. Ne, He, Ar, Kr (කාපාංකය)



ඉහත වන වන පරමාණුක වර්ධනයේ අණු වේ ✓

අණු-අණු අතර පවතින දුර්වල ආකර්ෂණ බලය වැඩි වේ ✓

එබැවින් උෂ්ණත්වය වැඩි වේ ✓

කාණදාය මට්ටමේ පැවැත්ම යනට සං.ව.ව. මෙන්ම
 පරමාණුක අර්ධය වැනි වේ. (අ/ප්‍රවේ විභලකය වැනිවේ) ✓
 ∴ කාණදාය මට්ටමේ පැවැත්ම යනට මෘතව බල ප්‍රභලකය වැනිවේ. ✓
 ∴ කාණදාය $He < Ne < Ar < Kr$ වලට වේ
 (ම 03x4 = 12)
15

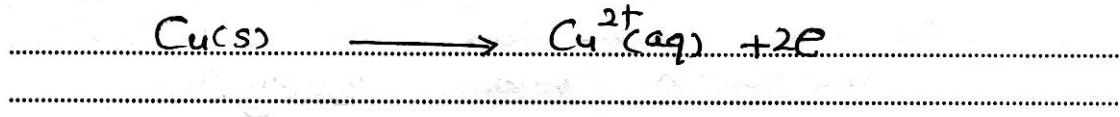
III. පහත වගුව සම්පූර්ණ කරන්න.

		පවතින ද්විතීයික අන්තර් ක්‍රියා වර්ගය / වර්ග
i	HBr සහ HCl අතර	ද්විසූච - ද්විසූච ආකර්මක බල
ii	ද්‍රව NH ₃ වල	H - බන්ධන
iii	NaCl හි ජලීය ද්‍රාවණයක	ඉයන - ද්විසූච ආකර්මක බල
iv	ජලීය O ₂ ද්‍රාවණයක	ද්විසූච - ජ්‍යෙෂ්ඨ ද්විසූච ආකර්මක බල
v	CCl ₄ ද්‍රාවණයක	මෘතව බල


(ම 03x5 = 15)

(b) I. Cu තනුක HNO₃ සමඟ ප්‍රතික්‍රියාවී Cu(NO₃)₂, NO වායුව සහ H₂O සාදයි.

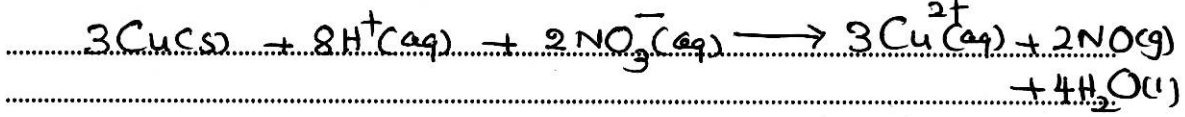
i. මක්සිකරණ අර්ධ ප්‍රතික්‍රියාව ලියන්න.




ii. මක්සිකරණ අර්ධ ප්‍රතික්‍රියාව ලියන්න.



iii. තුලිත අයනික සමීකරණය ලියන්න.



iv. තුලිත රසායනික සමීකරණය ලියන්න.

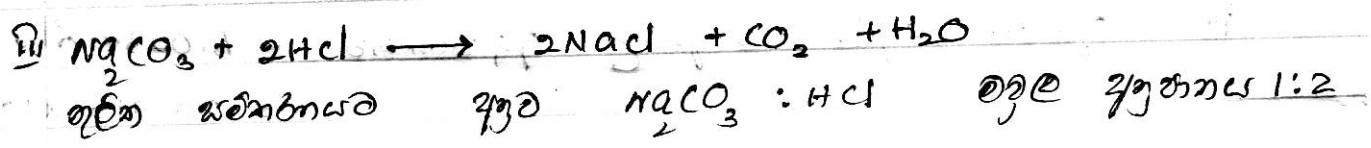


(ම 10x4 = 40)

(B.C. කොටස්) පිළිතුරු ඉටුය.

5) a(1) Na_2CO_3 මවුලික ස්කන්ධය = $46 + 12 + 48 = 106 \text{ g mol}^{-1}$ (05)
 ආවේණික ඉවහරයේ මු Na_2CO_3 මවුල = $\frac{10.6 \text{ g}}{106 \text{ g mol}^{-1}}$
 = 0.1 mol .
 Na_2CO_3 ඉවහරයේ ඝනත්වය = $\frac{0.1 \text{ mol} \times 1000 \text{ cm}^3}{250 \text{ cm}^3}$ (10)
 = 0.4 mol dm^{-3}

ii ඉවහරයේ Na_2CO_3 මවුල ගණන = $\frac{5.3 \text{ g}}{106 \text{ g mol}^{-1}}$
 = 0.05 mol
 ඉවහරයේ මු තව මුළු මවුල ගණන = $0.4 + 0.05 \text{ mol}$
 ∴ තව ඉවහරයේ ඝනත්වය = $\frac{0.45 \times 1000}{250}$ (22)
 = 1.8 mol dm^{-3}



$1.8 \text{ mol dm}^{-3} \text{ Na}_2\text{CO}_3$ 25 cm^3 මු මවුල ගණන = $1.8 \times 25 \times 10^{-3} \text{ mol}$
 = 0.045 mol
 මවුලික ස්කන්ධයන් අනුව ඉවහරයේ HCl මවුල ගණන = $0.045 \times 2 \text{ mol}$
 = 0.09 mol
 ∴ ඉවහරයේ $0.1 \text{ mol dm}^{-3} \text{ HCl}$ වර්ගය = $\frac{1000 \times 0.09 \text{ mol}}{0.1}$ (25)
 = 900 cm^3

iv ප්‍රතික්‍රියාවේ අනුව ඉවහරයේ Na_2CO_3 මවුල ගණන = 0.045 mol
 සමහරු විට Na_2CO_3 මවුල ගණන ($\text{Na}_2\text{CO}_3 : \text{CO}_2 = 1:1$ අනුව) = 0.045 mol
 ∴ නිකුත් වූ CO_2 ස්කන්ධය = $0.045 \text{ mol} \times 44 \text{ g mol}^{-1}$ (10)
 = 1.98 g

v ගණනා මු Na_2CO_3 100 cm^3 මු මවුල ගණන = $\frac{0.4 \times 100 \text{ mol}}{1000}$ (25)
 = 0.04 mol
 ∴ තව ඉවහරයේ ඝනත්වය = $\frac{0.04 \times 1000}{500}$
 = 0.08 mol dm^{-3}

(b) C_2H_5OH ឧស្ម័ន = 46%

H_2O ឧស្ម័ន = 54%

C_2H_5OH ចំនួន ឧស្ម័ន = 46 g mol^{-1}

C_2H_5OH ចំនួន ម៉ូល = $\frac{46 \text{ g}}{46 \text{ g mol}^{-1}} = 1 \text{ mol}$

H_2O ចំនួន ឧស្ម័ន = 18 g mol^{-1}

H_2O ចំនួន ម៉ូល = $\frac{54 \text{ g}}{18 \text{ g mol}^{-1}} = 3 \text{ mol}$ (25)


$\therefore C_2H_5OH$ ចំនួន ភាគរយ = $\frac{n_{C_2H_5OH}}{n_{H_2O} + n_{C_2H_5OH}} = \frac{1}{4} //$

ii C_2H_5OH ឧស្ម័ន ក្រាម = $\frac{46 \times 10^6}{100} = 4.6 \times 10^5$ (10)

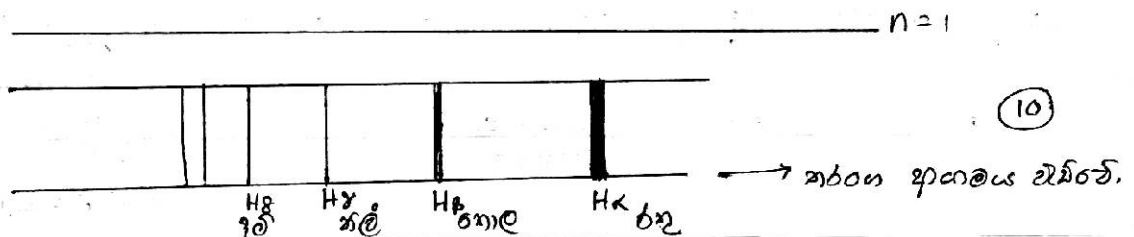
iii C_2H_5OH ចំនួន 5 ម៉ូល ទ្រទ្រង់ ម៉ូល = $6.023 \times 10^{23} \times 5 = 30.115 \times 10^{23}$ (10)

iv ចំនួន ម៉ូល ផលិតផល = $30.115 \times 10^{23} \times 9 = 2.71 \times 10^{25} //$ (10)

(b)



ii



III) නවතන දුරකථන $c = \lambda \nu$
 $\lambda = \frac{3 \times 10^8 \text{ m s}^{-1}}{4.56 \times 10^{14} \text{ s}^{-1}}$ (20)
 $= 0.658 \times 10^{-6} \text{ m}$
 $= 658 \text{ nm}$

IV) ශක්තිය $E = h\nu$
 $= 6.624 \times 10^{-34} \text{ Js} \times 4.56 \times 10^{14} \text{ s}^{-1}$
 $= 30.2 \times 10^{-20} \text{ J}$ (20)

V) $E = mc^2$: අන්තර්වේගයේ ශක්තිය

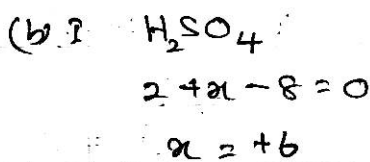
$E = h\nu$: චලනයේ ශක්තිය

$c = \lambda \nu$

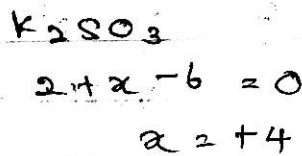
$\lambda = \frac{h}{mc}$

$\lambda = \frac{6.625 \times 10^{-34} \text{ Js}}{9.1 \times 10^{-31} \text{ kg} \times 3 \times 10^8 \text{ m s}^{-1}}$


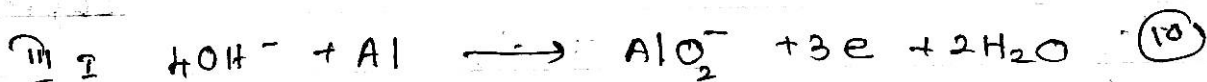
$\lambda = \frac{6.625 \times 10^{-34} \text{ Js}}{53.69 \times 10^{-25} \text{ kg m s}^{-1}}$ (25)
 $= 0.123 \times 10^{-9} \text{ m} = \underline{\underline{123 \text{ nm}}}$



ක්ෂාරීය අයන = +6 (10)

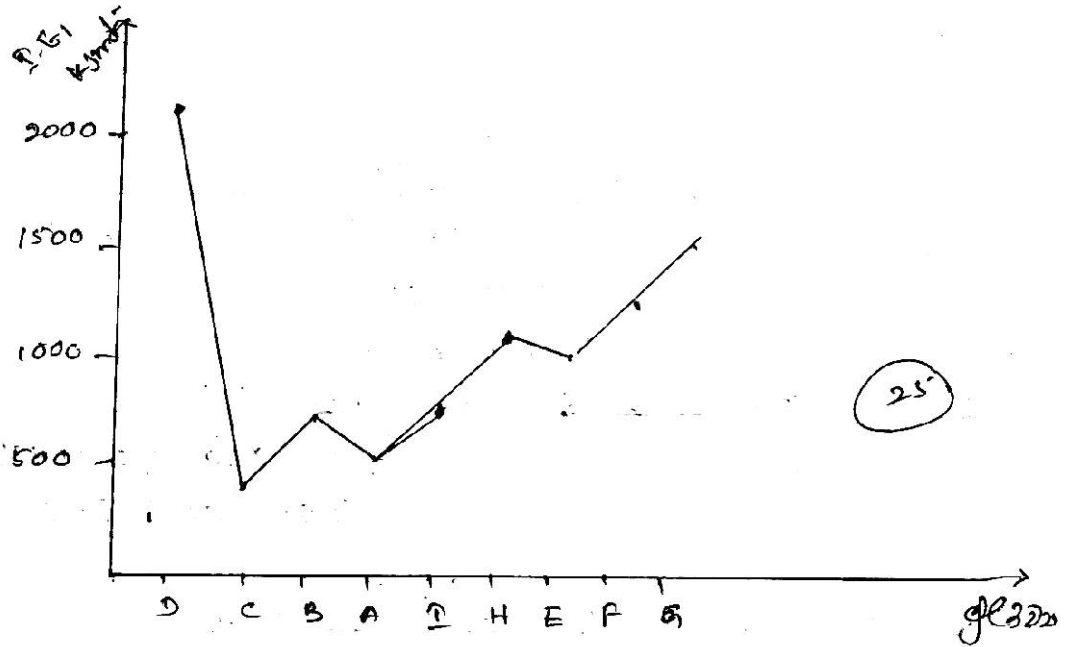


ක්ෂාරීය අයන = +4 (10)



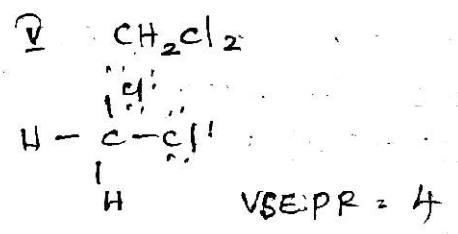
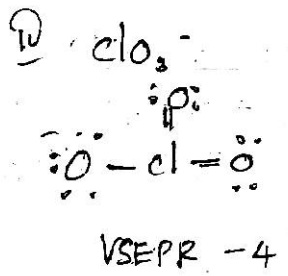
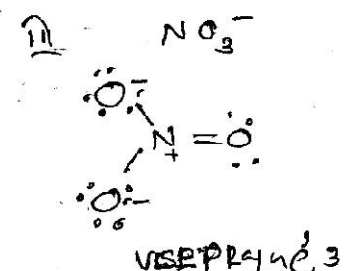
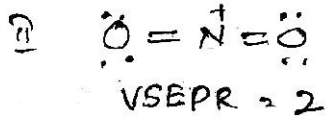
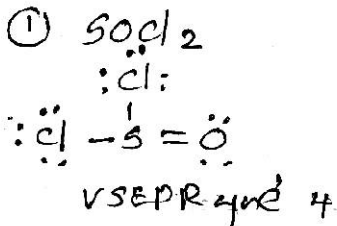
Q4

(7) (a)

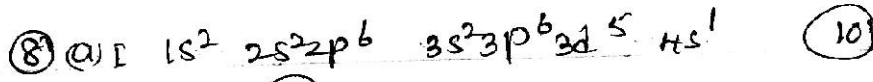


25

- ii) D හා G ඉලෙක්ට්‍රෝන (20)
- iii) H හි ඔක්සිකේෂන් අංකය ns^2np^3 වන අතර E හි (10) අංකය ns^2np^4 වේ. $ns^2np^3 > ns^2np^4$ බැවින් H හි E ඔක්සිකේෂන් අංකය වැඩි. ∴ H, I, E, වඩා E වැඩිය.
- iv) $A^{2+} < B^{2+} < C^{2+}$ අවස්ථාවේ අර්ධ චන්ද්‍රිකා වැඩිවේ. එනම් A, B වඩා C අවස්ථාවේ ඉහළ අවස්ථාවේ දිගින් දිගින්ම ඔක්සිකේෂන් අංකය වැඩිවේ. (15)
- v) F (10)
- vi) $D < G < F < E < H < I < A < B < C$ (10)



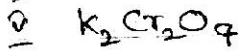
12 x 5
 (60)



(ii) 3 (10)

(iii) $n=4, l=0, m_l=0, s = +\frac{1}{2}$ or $-\frac{1}{2}$ (10)

(iv) potassium dichromate (10)



$2 + 2x + 14 = 0$ (10)

$-x = +6$

(b) I answer is.

KCl is an ionic compound. In solid state, it consists of K^+ and Cl^- ions arranged in a regular lattice. Each ion is surrounded by six oppositely charged ions. The electrostatic forces of attraction between the ions hold the crystal together. (10)

Answer is.

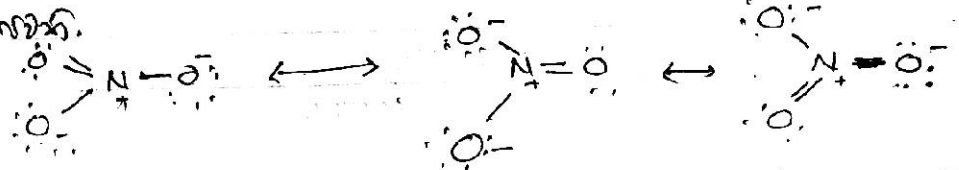
(ii) N is trivalent and O is divalent. In NH_3 , the nitrogen atom is bonded to three hydrogen atoms. The oxygen atom is bonded to two hydrogen atoms. The structure is NH_3 and H_2O . (10)

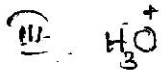
(iii) Answer is.

The structure of water is H_2O . It is a bent molecule. The oxygen atom is bonded to two hydrogen atoms. The bond angle is approximately 104.5° . The oxygen atom has two lone pairs of electrons. (10)

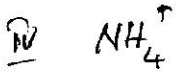
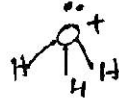
(iv) Answer is. NO_3^- is a trigonal planar molecule. The nitrogen atom is bonded to three oxygen atoms. (10)

Structure is:

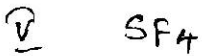
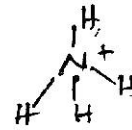




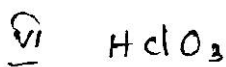
O ខ្លួន VSEPR មូលដ្ឋាន ៤
 O ខ្លួន ២ គណនា ៣
 ខ្លួន ២ មូលដ្ឋាន ១
 រាង ប្រាំមួយជ្រុង



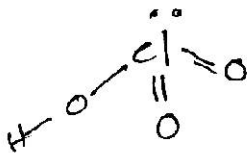
N ខ្លួន VSEPR មូលដ្ឋាន ៤
 N ខ្លួន ៤ គណនា ៤
 ខ្លួន ០ ០
 ∴ រាង ត្រីកោណមុខ



S ខ្លួន VSEPR មូលដ្ឋាន ៥
 " ៤ គណនា ៤
 ខ្លួន ១ មូលដ្ឋាន ១
 ∴ រាង ប្រាំមួយជ្រុង



Cl ខ្លួន VSEPR មូលដ្ឋាន ៤
 Cl " ៣ គណនា ៣
 ខ្លួន ១ មូលដ្ឋាន ១
 ∴ រាង ប្រាំមួយជ្រុង



$12 \times 6 = 72$

vi) O_n (08)

vii) Br හි සමස්ත පරමාණුක ස්කන්ධය = $\frac{79 \times 50.5 + 81 \times 49.5}{100}$
 $= 79.98 = 80 //$

(10) a

i) NaCl හි මවුලික ස්කන්ධය = $35.5 + 23 = 58.5 \text{ g mol}^{-1}$
 NaCl මවුල හතර = $\frac{117 \text{ g}}{58.5 \text{ g mol}^{-1}}$
 $= 2 \text{ mol}$

∴ NaCl හි මවුලීයතාව = $\frac{\text{මවුල හතර}}{\text{ද්‍රව්‍ය ස්කන්ධය 0.5 kg}}$
 $= 4 \text{ mol kg}^{-1}$

ii) Na^+ අයන සාන්ද්‍රණය = 4 mol dm^{-3}

iii) 0.2M NaCl 250 cm³ ඉල මවුල හතර කිසිවක්
 සමතුලිත මවුල ප්‍රමාණයක් සිටින 1M NaCl වර්ධනය
 කළේය.

* සමතුලිත වීමේදී 0.2M NaCl 250 cm³ වලට
 1M NaCl වර්ධනය කළේය. එම නිසා
 0.2M NaCl 250 cm³ වලට 1M NaCl වර්ධනය
 කළේය.

iv) 6 වර්ධන

π බන්ධන -

පරමාණුක ඝනකරණ තත්වය සඳහා පමණි	ආවේණික වන පරමාණුක අවස්ථාව
ස-ස, s-p, හෝ ඉහළ ඝනකරණ අවස්ථාවක් සඳහා පමණි	ආවේණික වන පරමාණුක අවස්ථාව
ආවේණික වන පරමාණුක අවස්ථාවක් සඳහා පමණි	ආවේණික වන පරමාණුක අවස්ථාව
ආවේණික වන පරමාණුක අවස්ථාවක් සඳහා පමණි	ආවේණික වන පරමාණුක අවස්ථාව

	NO_2^+	NO_2^-	NH_3
අවස්ථාව	+1	+0	0
ඛණ්ඩනය	+5	+3	-3
මවුලිකතාව	sp^2	sp^2	sp^3

අවස්ථාවක් + අයන වර්ධනය, π බන්ධන අවස්ථාව

09.
L

ඔහු ඇතැම් විටදී ජලාශ්‍රයේ විද්‍යුත් ඉතාමත් වැඩිවේ.
 සමස්ත sp^3 sp^2 sp ජලාශ්‍රයේ විද්‍යුත් ඉතාමත් වැඩිවේ.
 $\therefore NH_3$ NO_2^- NO_3^- ඊටත් වඩා වැඩිවේ.

ඔහු MgO හි දැනට ඇති ස්ථාන වලට වැඩි වැඩිවේ.
 ඔහු CO_2 හිදී මේ වැඩිවීමේ හේතුවෙන් ඔහු වඩා වැඩි
 වීමට හේතු වේ. ඔහු වඩා වැඩි වීමට හේතු වන්නේ MgO හි
 වැඩි වීමට හේතු වන්නේ CO_2 හිදී වැඩි වීමට හේතු වීමයි. (15)

ඔහු H_2O හිදී වැඩි වීමට හේතු වන්නේ H ස්ථාන වලට වැඩි වීමයි. NH_3 හිදී
 වැඩි වීමට හේතු වන්නේ N ස්ථාන වලට වැඩි වීමයි. ඔහු වඩා වැඩි වීමට හේතු වන්නේ
 වැඩි වීමට හේතු වන්නේ H_2O හිදී වැඩි වීමට හේතු වීමයි. (15)

ඔහු CO_2 හිදී වැඩි වීමට හේතු වන්නේ CO_2 හිදී වැඩි වීමට හේතු වීමයි.
 ඔහු වඩා වැඩි වීමට හේතු වන්නේ CO_2 හිදී වැඩි වීමට හේතු වීමයි. (15)